

REKENTERMEN

DEEL 8

REKENTERMEN

DEEL 8

Deel A:

Opdracht 1:

Leer de onderstaande woorden!

1. **de contributie – de contributies:** de contributie is het geld dat je moet betalen om lid (= je hoort dan bij een club of vereniging) te zijn van een club of vereniging
 - Hoeveel bedraagt **de contributie** als je lid bent van kanovereniging “Maaslanden”? Dan moet je elke maand €10,00 betalen.
2. **produceren: (produceerde(n) – geproduceerd):** als je iets produceert dan maak je iets (wat er nog niet is) – bijv. in een fabriek een fiets produceren of met een machine muntgeld produceren of in de landbouw sla produceren
 - De Bavariafabriek in Lieshout **produceert** dagelijks 60.000 flesjes bier. Dat betekent dus dat er elke dag 60.000 lege flesjes gevuld worden met bier en dan gereed gemaakt worden om naar winkels en de horeca getransporteerd te worden.

Let op!

Van het werkwoord “**produceren**” komt het woord “**het product**”. Een **product** is iets wat door een persoon of een bedrijf is gemaakt of wat op het land is gemaakt (gegroeid is).

- Deze stofzuiger is een **product** dat door medewerkers van de Miele-fabriek in Essen (Duitsland) is gemaakt.
- **het product – de producten**

Het product bij rekenen is het antwoord (de uitkomst) van een keer-som (een vermenigvuldiging): 21 is **het product** van 3 en 7, want 3 keer 7 = 21

3. **het inkomen – de inkomens:** het inkomen van iemand is alle geld dat die persoon ontvangt over een bepaalde periode (dat kan o.a. loon, rente en een uitkering zijn)
- Verreweg de meeste kunstenaars worden van hun **inkomen** niet rijk. Zo verdient de helft van de beeldende kunstenaars minder dan 10.000 euro per jaar en moeten twee op de vijf musici het doen met loon op bijstandsniveau. De helft van alle kunstenaars komt net boven de 30.000 euro per jaar uit. Slechts een kleine groep kunstenaars kan van hun **inkomen** goed leven.
4. **de jaartelling – de jaartellingen:** een jaartelling is een manier waarop je de jaren telt vanaf een bepaalde gebeurtenis
- In Nederland gaan we uit van de Christelijke **jaartelling** en deze **jaartelling** begint met het jaar nul. Dat is het jaar waarin Jezus Christus is geboren. Als iemand in het jaar 2000 is geboren dan is dat 2000 jaar na de geboorte van Jezus Christus.
 - 612 voor Christus betekent _____
 - 808 na Christus betekent _____
5. **rood staan: hij staat rood – hij stond rood – hij heeft rood gestaan:** als je rood staat heb je te weinig geld op je bankrekening (of creditcard of ov-chipkaart, e.d.) – je hebt meer geld uitgegeven dan er op je bankrekening (creditcard of ov-chipkaart, e.d. staat)
- De helft van de Nederlanders zegt wel eens **rood te staan**. Dat komt volgens hen vooral als ze onverwacht grote uitgaven moeten doen zoals de reparatie van de auto of het kopen van een nieuwe wasmachine, maar ook omdat ze simpelweg dagelijks te veel geld uitgeven. Al die Nederlanders hebben dan te weinig geld op hun bankrekening staan.
6. **de onderneming – de ondernemingen:** een onderneming wordt ook wel een bedrijf of zaak genoemd bijv. een begrafenisonderneming
- Heijmans is een grote bouw**onderneming** die o.a. werkzaam is in de bouw van allerlei soorten gebouwen en het aanleggen van wegen en rotondes. Vorig jaar had Heijmans een omzet (= de hoe-

veelheid geld dat is ontvangen) van zo'n 2 miljard euro. Bij dit bedrijf werken ruim 6000 mensen.

7. **de opbrengst – de opbrengsten:** de opbrengst van iets is het resultaat van wat je verkocht hebt of het resultaat van iets wat je verzameld hebt (uitgedrukt in geld, gewicht of aantal)
- Vrijwilligers van het Rode Kruis hebben vorige week in heel Nederland huis aan huis gecollecteerd. **De opbrengst** van deze collecte bedraagt €17.878.287,35. Met dank aan al die gulle gevers!

Let op!

De opbrengst komt van het werkwoord “**opbrengen**”: **het brengt op – het bracht op – het heeft opgebracht:** wat het oplevert (wat het resultaat is) door iets te verkopen of iets te verzamelen

- De verkoop van het huis van de familie Smits **heeft** €225.000,00 **opgebracht**. Die familie heeft dus hun huis voor €225.000,00 verkocht.

8. **de opruiming – de opruiming:** als het opruiming is dan worden tijdelijk artikelen tegen lagere prijzen dan normaal verkocht – de opruiming duurt bijv. twee of drie weken of een maand

Een ander woord voor “**opruiming**” is “**uitverkoop**” – tegenwoordig hoor en zie je ook het Engelse woord “**sale**” voor “**opruiming**” of “**uitverkoop**”

Let op!

- een artikel is **in de opruiming** = _____
- Vanaf 2^e kerstdag (26 december) zijn bij tuincentrum Intratuin alle kerstspullen **in de opruiming**. Dan kun je o.a. kerstballen, kerststerren, kerststallen en kerststukjes voor veel lagere prijzen kopen.

9. **de overnachting – de overnachtingen:** een overnachting is ergens de nacht doorbrengen (ergens blijven slapen) – (vaak wordt dat gezegd als je ergens tijdelijk bent – bijv. een nacht of twee nachten of een hele week op bijv. op een camping of in een hotel)
- **de overnachting** komt van het werkwoord “**overnachten**” (**overnachtte(n) – overnacht**): ergens blijven slapen

- Tijdens onze busreis vanuit Nederland naar Turkije zijn we na twee **overnachtingen** in hotels in München en in Boedapest, waar we heerlijk geslapen hebben, op de derde dag van onze reis in Istanbul in Turkije aangekomen.

10. **de positie – de posities:** de positie is de plaats waar iemand of iets is

- Motorcoureur John Riksen vertrok bij de start van de motorrace in Assen vanaf een tweede **positie**. Deze plaats kon hij tot vlak voor de finish vasthouden, maar toen werd hij toch nog voorbijgereden door de Franse motorcoureur Pierre Sale en werd John Riksen derde.

Opdracht 2:

Hieronder staan plaatjes en tekst. Noteer onder die plaatjes en onder die tekst het juiste woord of de juiste woorden! Kies uit de woorden die bij opdracht 1 staan!

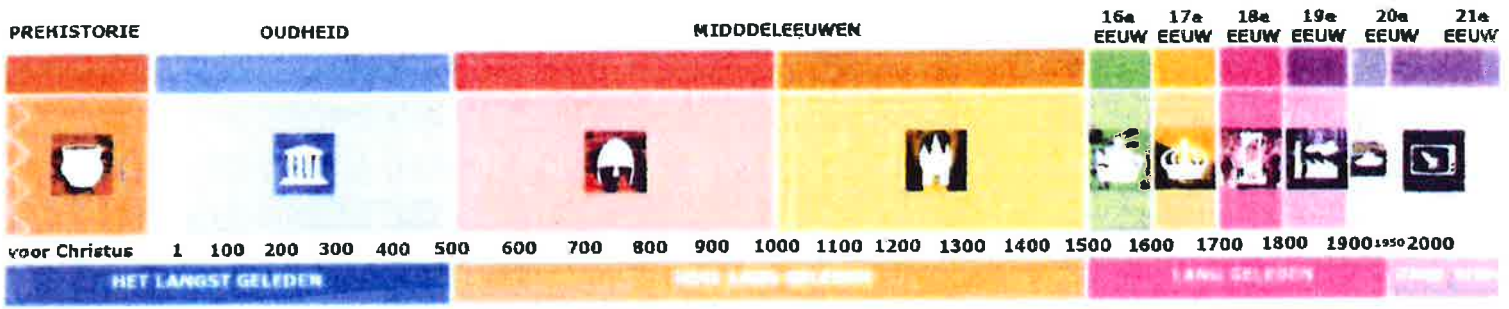
Plaatje 1:

Salarisspecificatie

**De heer R. Wilmans
Vogelstraat 22
1477 RB Oostzaan**

Uitbetaling november 2017	€ 2800,00
Loonheffing	- € 450,00
Inhouding premies	- € <u>350,00</u>
Overgemaakt op 657636533	€2000,00

Plaatje 2:



Plaatje 3:



Plaatje 4:



Plaatje 5:



Plaatje 6:



Waar staat het meisje ten opzichte van de jongen?



Plaatje 7:



Plaatje 8:

Cheque Een actie voor
KWF KANKER BESTRIJDING

€ 16.455,-

Hoekstra Warmte bakker voor ieder moment
Loopgroep Beekim

STA OP↑TEGEN

Plaatje 9:

Plaatje 10:

Volleybalvereniging VBH Hoevelaken

	2016/2017	2017/2018
- senioren (vanaf 18 jaar)		
• Factuur per jaar	€ 240,-	€ 246,-
• Automatische incasso per jaar	€ 240,-	€ 246,-
• Automatische incasso per kwartaal	€ 60,-	€ 61,50
• Automatische incasso per maand	€ 20,-	€ 20,50
- junioren (13 t/m 17 jaar)		
• Factuur per jaar	€ 162,-	€ 165,-
• Automatische incasso per jaar	€ 162,-	€ 165,-
• Automatische incasso per kwartaal	€ 40,50	€ 41,25
• Automatische incasso per maand	€ 13,50	€ 13,75
- pupillen (t/m 12 jaar)		
• Factuur per jaar	€ 132,-	€ 135,-
• Automatische incasso per jaar	€ 132,-	€ 135,-
• Automatische incasso per kwartaal	€ 33,-	€ 33,75
• Automatische incasso per maand	€ 11,-	€ 11,25
- ondersteunende leden		
• Factuur per jaar	€ 96,-	€ 96,-
• Automatische incasso per jaar	€ 96,-	€ 96,-
• Automatische incasso per kwartaal	€ 24,-	€ 24,-
• Automatische incasso per maand	€ 8,-	€ 8,-
- ondersteunende leden (65+)		
• Factuur per jaar	€ 72,-	€ 72,-
• Automatische incasso per jaar	€ 72,-	€ 72,-
• Automatische incasso per kwartaal	€ 18,-	€ 18,-
• Automatische incasso per maand	€ 6,-	€ 6,-



ALLEEN DEZE MAAND

Opdracht 3:

Beantwoord de onderstaande vragen en opdrachten op de juiste wijze!

1. Zoek op het internet hoeveel de contributie voor jeugdleden van wielervereniging "Trap met lust Dommelstreek" uit Geldrop bedraagt! _____
2. Noem vijf landbouwproducten en drie producten die van ijzer zijn gemaakt! _____
3. Noem drie beroepen waarmee je een hoog inkomen hebt en noem drie beroepen waarmee je een laag inkomen hebt! _____

4. Waarom is het handig om een jaartelling te hebben? _____

-
5. Is het erg om langere tijd rood te staan op je bankrekening? Waarom? _____
 6. Noem drie belangrijke doelstellingen van een onderneming! _____

 7. "Serious Request" is een jaarlijkse actie van radiozender 3FM in de week voor Kerstmis. Doel van "Serious Request" is zoveel mogelijk geld in te zamelen voor het goede doel. Hoeveel bedroeg de opbrengst van "Serious Request" vorig jaar? _____
 8. Is het verstandig om zomerkleren in de opruiming te kopen? Waarom? _____
 9. Wat kost een overnachting in het Van der Valk Hotel Eindhoven per persoon? _____
 10. Op welke positie in de eredivisie staat voetbalvereniging PSV? _____

Opdracht 4:

Zijn de onderstaande zinnen waar of niet waar? Noteer op de juiste wijze waar of niet waar achter elke zin!

1. In een contributie moet je al je persoonlijke gegevens invullen om lid te kunnen worden van een club of een vereniging.
2. Als er in de Daf-fabriek per dag 40 vrachtauto's worden geproduceerd dan maken alle medewerkers van die Daf-fabriek elke dag 40 vrachtauto's.
3. Het jaarinkomen van een schilder van schildersbedrijf "Hoogers" bestaat uit het salaris, de vakantie-uitkering en de eindejaarsuitkering.
4. Niet ieder mens op aarde leeft op dit moment in hetzelfde jaar omdat er diverse jaartellingen in de wereld zijn.
5. Als je rood staat bij de bank dan leen je eigenlijk geld van de bank.
6. Als je vader bij metaalbedrijf "Metabo" werkt dan werkt je vader bij een metaalonderneming.
7. Als een boer wortelen verbouwt op zijn land en hij verkoopt al die wortelen voor €12.000,00 dan is de opbrengst van die wortelen €12.000,00.

8. Als in de maand oktober alle schoolspullen bij Action in de opruiming zijn dan kun je al die schoolspullen goedkoper kopen dan in de maanden augustus en september.
9. Een overnachting is een verhaal dat zich in de nacht in het bos afspeelt.
10. Als je een positie hebt dan krijg je bij elke supermarkt al je boodschappen alleen op zaterdag goedkoper.

Opdracht 5:

Hieronder staan zinnen. In die zinnen moeten de juiste woorden worden ingevuld. Kies uit de woorden van opdracht 1!

1. Vorig jaar telden de 34 jeugdherbergen in Nederland 750.000 _____. Niet alleen jongeren brengen er de nacht door, maar ook steeds meer ouderen en gezinnen met kinderen ontdekken deze slaapmogelijkheden en het is zeker goedkoper dan een hotel.
2. Bij kledingzaak Takko begint begin februari _____ en deze duurt tot half februari. Als je nog nieuwe winterkleden nodig hebt, kun je beter even wachten. Het is nu 16 januari en over twee weken kun je bij deze kledingzaak veel goedkoper winterkleden kopen. Je moet dus nog even geduld hebben.
3. In de _____ die we in Nederland gebruiken, telt een jaar 365 dagen, omdat de aarde in die tijd (bijna) helemaal om de zon draait.
4. Een olifant in Afrika eet per dag tussen 150 en 200 kilo voedsel. Hij eet vooral gras, bladeren, struiken en soms vruchten en boomchors. Niet al dat voedsel blijft in het lichaam van die olifant. Een olifant _____ dan ook een ton (= 1000 kilo) mest per jaar.
5. Als je 12 jaar bent en je wilt een bankrekening openen dan moet een van je ouders hiervoor toestemming geven. Een bankrekening van een jongere lijkt veel op een bankrekening van een volwassene. Je kunt ermee betalen en er kan geld op gestort worden. Er is wel een duidelijk verschil: een jongen of meisje vanaf 12 jaar kan nooit meer geld uitgeven dan er op zijn of haar bankrekening staat. Dus kun je als twaalfjarige jongen of als twaalfjarig meisje nooit ____

6. Bij biljartvereniging “de keu” uit Boekel bedraagt _____ voor junioren €140,00 per jaar en voor senioren €200,00 per jaar. Hiervoor kunnen alle leden elke week twee keer trainen in buurthuis “het stoepje” en speelt elk junioren- en seniorenteam 25 wedstrijden in een regionale competitie.
7. Als je vaak voor een groter publiek moet presenteren en je wilt het presenteren beter leren dan moet je tijdens het presenteren goed op je _____ op het podium letten:
- Blijf altijd op de voorste helft van het podium!
 - Blijf op belangrijke momenten (bijv. aan het begin en aan het einde) altijd in het midden van het podium!
 - Bewegen boeit! Wissel tijdens het presenteren tussen de linker- en rechterhelft van het podium!
8. Nu we pas verhuisd zijn, hebben we de elektrische kettingzaag, de bladblazer en de speksteenkachel niet meer nodig. Daarom heb ik al deze spullen via “Marktplaats” verkocht. Er is toch nog goed voor deze spullen betaald. _____ bedraagt €1200,00. Daar ben ik best tevreden mee.
9. Oom Janus werkt al 27 jaar op de afdeling administratie van het Edith Steincollege in Geleen. Al die jaren heeft hij een vast _____ gehad. Dat betekent dat hij er elke maand zeker van was dat zijn salaris op zijn bankrekening gestort werd. Van dat bedrag kon hij gemakkelijk een maand lang met zijn gezin leven en er zelfs een gedeelte van sparen.
10. De tante van Jorien, Stientje, werkt bijna 25 jaar voor schoonmaakbedrijf “Properservice”. Stientje heeft in al die jaren veel restaurants, kantoren en scholen schoongemaakt. Haar baas, de heer Freriks, is erg tevreden over Stientje. Hij vindt Stientje zelfs een van de beste schoonmaaksters van zijn _____ waar bijna 600 schoonmakers en schoonmaaksters werken.

Opdracht 6:

Vul de onderstaande zinnen op de juiste wijze aan en in!

1. De contributie van de leden van zwemvereniging "de schoolslag" wordt gebruikt voor _____ en _____
2. Als jij je eigen groente in je volkstuintje produceert dan _____
3. Als je door je directeur wordt ontslagen omdat het bedrijf waar je werkt failliet is dan wordt je inkomen een _____
4. Door onze jaartelling weten we wanneer er belangrijke gebeurtenissen zijn geweest zoals in het jaar 334 voor Chr. toen _____
_____ en in het jaar 1492 na Chr. toen _____
_____. Het verschil in jaren tussen deze gebeurtenissen is _____
5. Veel Nederlanders staan wel eens rood bij de bank. Om nooit meer rood te staan, adviseer ik deze mensen _____
_____ en _____
6. A. In een onderneming waar ze _____ wil ik wel werken, omdat _____
B. In een onderneming waar ze _____ wil ik niet werken, omdat _____
7. Als de opbrengst van de Nederlandse Olympische ploeg tijdens de Olympische Spelen 17 medailles is dan hebben _____
8. Een spaarbank houdt nooit opruiming, want _____
9. Als je een overnachting in de Efteling wilt meemaken dan kun je kiezen uit _____ of uit _____
10. Als je in een voetbalelftal voetbalt dan kun je op diverse posities spelen zoals _____, _____,
_____, _____ en _____.

Deel B:

Opdracht 1:

Leer de onderstaande woorden!

11. het record – de records: een record is het beste, het slechtste, het hoogste, het snelste, het langzaamste, het mooiste, het koudste, het warmste, het verste, e.d. resultaat dat is bereikt (= behaald)

- Vandaag is de temperatuur tot 35 graden Celsius gestegen. Dat is een **record** voor deze zomer. Nog nooit was het zo warm tijdens deze zomer.

Let op!

- een record vestigen = _____
- een record breken = _____

12. de voorraad – de voorraden: een voorraad bestaat uit producten die je bewaart om later te gebruiken of te verkopen

- Op 24 mei heeft Mart Lindhout tijdens het voetbaltoernooi voor C- en B-junioren op sportpark “de Linze” ijsco’s verkocht. Voor deze dag had Mart erg veel ijsco’s ingekocht die hij in een grote elektrische koelbox bewaarde. Door het warme weer op deze dag had hij al om twee uur ’s middags zijn hele **voorraad** ijsco’s verkocht en kon hij naar huis. Natuurlijk had hij op deze dag behoorlijk veel verdiend.

Let op!

- zolang de voorraad strekt = _____
- een product in (op) voorraad hebben = _____

13. de vergoeding – de vergoedingen: een vergoeding is geld dat je krijgt voor

- de kosten (wat je ergens voor betaald hebt) die je hebt gemaakt
- de schade (iets is kapot of minder mooi) die je hebt geleden
- het werk dat je hebt gedaan
- Drie leraren van het Einsteincollege in Nijmegen zijn in januari een dag naar de NOT (Nationale Onderwijstentoonstelling) in Utrecht geweest. Hiervoor hebben deze leraren de trein van Nijmegen naar

Utrecht genomen. Voor alle gemaakte kosten voor deze treinreis van Nijmegen naar Utrecht en weer terug hebben ze van het Einsteincollege een **vergoeding** gekregen. Het Einsteincollege heeft alle reiskosten voor deze treinreis aan deze leraren terug-betaald.

14. voordelig (voordeliger – voordeligst): als iets voordelig is, geeft het financieel (wat geld betreft) voordeel – je bent er dan minder geld aan kwijt

- Voor een driegangenmenu moet je in veel restaurants al snel zo'n €35,00 tot €40,00 betalen. Als je een keer **voordelig** een driegangenmenu in een restaurant wilt eten dan kun je in restaurant Le Connaisseur in Eindhoven terecht. Het is er gezellig en het eten is er van een goede kwaliteit en lekker. Je betaalt er maar €12.50 voor. Erg goedkoop!

15. de waarde – de waardes of de waarden: de waarde van "iets" (bijv. een product of een stuk land) is het bedrag dat je zou moeten betalen als je het zou moeten kopen (prijs)

Let op!

- Een cadeaubon **ter waarde van** €25,00. _____
- **De waarde** van het huis van de familie Sanders is het afgelopen jaar met €20.000,00 gestegen. Vorig jaar kostte dat huis €250.000,00 en nu moet je er al €270.000,00 voor betalen.

16. besteden: besteedde(n) – besteed: als je iets ergens aan besteedt dan gebruik je het ergens voor.... bijvoorbeeld...

- je aandacht besteden aan _____
- je geld besteden aan _____
- je tijd besteden aan _____
- Agnes is vanmorgen met haar moeder naar winkelcentrum "de mus" gegaan om nieuwe schoenen voor Agnes te kopen. Als Agnes voor een van drie schoenenwinkels staat, vraagt ze aan haar moeder: "Hoeveel geld mag ik eigenlijk aan mijn nieuwe schoenen **besteden**?" Haar moeder antwoordt hierop: "Ten hoogste €70,00." Dus mocht Agnes schoenen kopen die niet duurder dan €70,00 zijn.

17. wijzigen – wijzigde(n) – gewijzigd: als je iets wijzigt dan verander je het (het wordt dan anders) (wijzigen = veranderen)

- Als Floor, leerling van leerjaar 3 van het Finidicollege, op dinsdag op school komt, ziet ze op haar mobiele telefoon dat haar lesrooster **is gewijzigd**. Het derde lesuur heeft ze geen wiskunde, maar Duits en wiskunde valt deze dag uit. Het lesrooster van Floor is dus voor deze dag veranderd door de ziekte van haar wiskundelerares.

18. vervangen – verving(en) – vervangen:

- als je “iets” vervangt dan haal je dat “iets” weg en komt er iets anders voor in de plaats: een nieuwe lamp vervangt een kapotte lamp
- als een persoon wordt vervangen dan komt er iemand anders voor die persoon: een (gezonde) leraar vervangt een zieke leraar
- Over het riviertje de Aa ligt bij Keldonk een oud bruggetje. Dat oude bruggetje wordt afgebroken en wordt **vervangen** door een tunnel die onder het riviertje de Aa wordt aangelegd. Over drie maanden is die tunnel klaar.

19. de ton – de tonnen:

- a. de ton is een ander woord voor honderdduizend euro
- b. de ton is een ander woord voor duizend kilo
- Deze week is de straatprijs van een **ton** van de Postcode Loterij op postcode 7553 MS gevallen. Dat is in de Egbertstraat in Hengelo. Vijf Hengeloërs mogen deze prijs verdelen: drie van hen krijgen ieder 25.000,00 euro en twee anders lothouders ontvangen ieder €12.500,00.
- Alle negen gezinsleden van de familie Sops hebben een groot overgewicht. Vader en moeder wegen elk 125 kilo. De drie zonen wegen ieder 105 kilo en drie van de vier dochters wegen elk 115 kilo en de jongste dochter weegt 90 kilo. Samen wegen die gezinsleden dus een **ton**.

20. in de reclame: als een artikel in de reclame is dan is dat artikel goedkoper dan gewoonlijk

- Alle kaas van het merk “Old Amsterdam” is bij de Jumbo **in de reclame**. Gisteren kostte een kilo van deze kaas nog € 8,60.

Vandaag betaal je voor diezelfde kilo kaas nog maar € 4,90. Dat scheelt toch € 3,70 per kilo.

Opdracht 2:

Hieronder staan plaatjes en tekst. Noteer onder die plaatjes en tekst het juiste woord of de juiste woorden! Kies uit de woorden die bij opdracht 1 staan!

Plaatje 1:

Wat mag een vrijwilliger ontvangen?

Per 1 januari 2019

Maximale bedragen en belastingvrij

per maand	per jaar
€ 170,00	€ 1700,00



Plaatje 2:



*bellen naar
Suriname
voor maar*

13 cent !!!

Trein Dagkaart
56:40
17.50
op=op

Dagkaart
voor
1 volwassene
en
2 kinderen

Plaatje 3:



adidas TERREX
Swift R
€ 82,90

Plaatje 4:



Plaatje 5:



2 KILO
~~1.95~~ **1.19**
per 2 kilo

Plaatje 6:



Plaatje 7:

~~Meneer Jansen~~

Meneer van
Dijk



Plaatje 8:



500	36.36	Sang-Hwa Lee
1000	1.12.51	Heather Bergema
1500	1.51.59	Brittany Bowe
3000	3.53.34	Cindy Klassen
	4.42.66	Marina Stobitska

Plaatje 9:



Plaatje 10:



Plaatje 11:

ik geef je
aandacht
zorg
overtuiging
attentie
acht
oplettendheid
interesse



Opdracht 3:

Beantwoord de onderstaande vragen en opdrachten op de juiste wijze!

1. A. Wat is het wereldrecord hoogspringen voor mannen? _____
B. Wat is het wereldrecord verspringen voor vrouwen? _____
2. Hoe ontstaat een voorraad? Noem twee oorzaken! _____

3. Een pleegkind is een kind dat niet door zijn of haar eigen ouders wordt verzorgd, maar door pleegouders. Voor de verzorging van een pleegkind krijgen die pleegouders een vergoeding. Hoe hoog is die vergoeding voor een pleegkind van 14 jaar? _____
4. In de reclame over het afwasmiddel Dreft wordt gezegd: "Dreft is voordelig in het verbruik." Wat wordt daarmee bedoeld? _____

5. Noem drie "dingen" die moeilijk in waarde zijn vast te stellen (= te bepalen) en leg uit hoe dat komt? _____

6. Tijdens de ouderavond met de klassenmentor van hun zoon Jorg werd met de ouders van Jorg veel tijd besteed aan het advies voor het vervolgonderwijs van Jorg. Wat wordt hiermee bedoeld? _____

7. Voorlopig gaan we vrijdagavond met z'n vieren bowlen in de "Flying Bowling" in Veldhoven, maar dit aantal kan nog wijzigen. Wat wordt hiermee bedoeld? _____
8. Wanneer vervangt een meisje van 12 jaar haar schoenen? Noem drie redenen! _____
9. A. De hoeveelheid huishoudelijk afval per inwoner in Nederland is al jaren 550 kilo per jaar. Hoeveel ton huishoudelijk afval is dat per jaar voor de stad Eindhoven met 200.000 inwoners? _____
B. Noem drie beroepen waarmee je per jaar meer dan een ton (bruto) verdient! _____
10. Is het verstandig om alle artikelen die in de reclame zijn in de supermarkt, waar jij altijd boodschappen doet, te kopen? Waarom?

Opdracht 4:

Zijn de onderstaande zinnen waar of niet waar? Noteer op de juiste wijze waar of niet waar achter elke zin!

1. Records worden alleen maar bij het sporten gebroken of gevestigd.
2. Als je bij de buurtsupermarkt een pak koffie van het merk Douwe Egberts wil kopen en in die supermarkt staat geen pak koffie van het merk Douwe Egberts meer, maar in het magazijn van de supermarkt staan genoeg van die pakken. Dan heeft die supermarkt een voorraad koffiepakken van het merk Douwe Egberts.
3. Als jij een bril nodig hebt en je koopt die bril voor €175,00 en zorgverzekeraar CZ geeft je een vergoeding van €150,00 voor die bril dan hoef je zelf maar €25,00 te betalen voor je nieuwe bril.
4. Een voordelige manier om van huis naar school te reizen, is gebruik te maken van de fiets.
5. Als de waarde van dit stuk bouwland €100.000,00 is dan moet je €100.000,00 betalen als je dit stuk bouwland wilt kopen.
6. Als je oom Jan veel tijd en aandacht besteedt aan het verzorgen van zijn zieke vrouw Anja (jouw tante) dan gebruikt hij veel tijd en aandacht voor zijn zieke vrouw Anja.
7. Als de openingstijden van het zwembad “de springplank” vanaf vandaag gewijzigd zijn dan is dat zwembad nog steeds op dezelfde tijden geopend zoals gisteren en vorige week.
8. Als de voorruit van de auto van Pim helemaal kapot is en die voorruit wordt vervangen dan krijgt die auto van Pim een andere voorruit.
9. Als een artikel in de reclame is dan is dat artikel altijd tijdens de reclame-uitzendingen op tv te horen en te zien en op de radio te horen.
10. A. Als er na een brand in het gemeentehuis van Valkenswaard voor een ton schade is dan is er voor €100.000,00 schade in dat gemeentehuis.
 B. Als er op de weg tussen Hapert en Bladel geen auto's mogen rijden die zwaarder zijn dan 3 ton dan mogen op deze weg geen auto's rijden die meer gewicht hebben dan 300 kilo.

Opdracht 5:

Hieronder staan zinnen. In die zinnen moeten de juiste woorden ingevuld. Kies uit de woorden van opdracht 1!

1. Aafke, 14 jaar en leerling in klas 2 van de havo, is onlangs verhuisd van een woning in de woonwijk Oranjeveld in Geldrop naar een woning in de woonwijk Coevering in Geldrop. Hierdoor is haar adres natuurlijk _____ want ze woont in een andere woning en dat moet ze natuurlijk wel melden bij haar school, bij haar basketbalclub en bij de muziekschool waar ze dwarsfluitles krijgt.
2. De _____ voor het werk als gemeenteraadslid is dit jaar met 4,9% gestegen. Een gemeenteraadslid ontvangt voor al zijn werkzaamheden een bedrag dat afhankelijk is van het aantal inwoners dat die gemeente heeft. Een raadslid in een gemeente met 40.000 inwoners krijgt per maand bijna €1000,00.
3. De 34-jarige Brit Evan Beaumont heeft nu het _____ de wereld rondfietsen. Hij deed over zijn fietstocht 79 dagen en elke dag fietste hij iets meer dan 380 kilometer. Deze wielrenner bracht zo'n 16 uur per etmaal door op zijn fiets en sliep maar vijf uur per nacht. Nog nooit heeft iemand op deze aarde de wereld in zo weinig dagen rondgefietst.
4. Omdat de aardappelen bij groenteman Jasper Teerling in de aanbieding waren, heeft mevrouw Bozels er 40 kilo van gekocht. Hier kan ze samen met haar man wel enkele maanden van eten. Deze _____ aardappelen kan zij dan ook het beste op een droge en donkere plaats bewaren. De meest ideale temperatuur om aardappelen te bewaren is tussen de 4 en 10 graden Celsius.
5. Als het goed is, poetsen we ons gebit elke dag wel twee keer. Je kunt nog zo keurig poetsen, maar na niet al te lange tijd is het echt nodig om je tandenborstel te _____. De tijd dat een tandenborstel goed poetst is ongeveer drie maanden. De tandenborstel poetst daarna niet meer goed: de haren staan ver uit elkaar en na drie maanden zitten er ook veel bacteriën op je tandenborstel en dan brengt die tandenborstel al die bacteriën in je mond. Niet echt gezond voor je gebit. Dus na drie maanden gaat de oude tandenborstel weg en gebruik je gewoon een nieuwe.

6. Tijdens de zware storm van vannacht is een behoorlijk grote boom in onze straat omgewaaid en op de auto van onze buurman terechtgekomen. De auto van de buurman is zwaar beschadigd door een boom die volgens de brandweer een gewicht had van bijna zes _____.
7. Elke werknemer krijgt in de maand mei vakantiegeld. Dat is bijna een extra maandsalaris. Waaraan _____ al die werknemers hun vakantiegeld? Dat doen ze als volgt:
- aan het kopen van o.a. een stofzuiger, een wasmachine of tv
 - aan de eigen hobby en aan de hobby's van de partner en kinderen
 - aan de vakantie in binnen- of buitenland
 - aan sparen
 - aan korte uitstapjes bijv. een dag naar de Efteling
8. Als je veel spaargeld op een spaarrekening bij één bank hebt dan is het een goed idee om dat spaargeld over meerdere banken te spreiden. Als de bank, waar jij al je spaargeld op een spaarrekening hebt staan, failliet gaat, krijg je per bank nog maar maximaal een _____. Een voorbeeld. Je hebt €550.000,00 op een spaarrekening bij één bank staan. Die bank gaat failliet. Dan ben je €450.000,00 kwijt, want je krijgt dan nog maar €100.000,00 per bank.
9. Als je doordeweeks met de trein in de 1^e klas naar Parijs reist dan kost dat zo'n €90,00 per persoon. Maak je in het weekend met de Thalys deze treinreis dan kun je echt _____ reizen. Je betaalt dan maar €59,00 per persoon. Je reist comfortabel, snel, er is gratis catering en wifi en je komt uitgerust in Parijs aan.
10. Theo Jens wil een nieuwe auto van het merk Suzuki kopen en heeft bij autobedrijf Sleenwen geïnformeerd welk bedrag hij na vier jaar nog voor deze nieuwe Suzuki terugkrijgt. Autoverkoper Niek van autobedrijf Sleenwen zei het volgende tegen Theo: "Elk jaar nadat je een nieuwe auto hebt gekocht, daalt de _____ van die auto. Het eerste jaar met 30%, het tweede jaar met 20% en de jaren daarna ieder jaar met 10%. Ook speelt natuurlijk het aantal gereden kilometers hier een rol. Na vier jaar kun je dus voor minder dan de helft van het aankoopbedrag deze auto verkopen.

11. In de folder van Albert Heijn las mijn vader dat volgende week het bier van het merk Heineken _____ is. Een krat bier van 24 flesjes met een inhoud van 0,30 liter kost deze week nog €14,99 en volgende week slechts €9,99. Dat scheelt heel wat euro's.

Opdracht 6:

Vul de onderstaande zinnen op de juiste wijze aan of in!

1. Als de verkoop van woningen in Nederland in het derde kwartaal van dit jaar op een record is uitgekomen dan _____
2. Is het slim om van producten een voorraad te hebben? Het is _____ slim om van producten een voorraad te hebben, omdat _____
3. Wat voor woning kun je voor een ton kopen? Voor een ton kun je _____
4. Wat is voordeliger? Een huis huren of een huis kopen? Het is voordeliger om een huis te _____, omdat _____
5. De handbalvereniging HVR in Rosmalen zamelt elke eerste zaterdag van de maand oud papier in Rosmalen in. Voor dat inzamelen van oud papier krijgt deze vereniging van de oudpapierhandelaar een vergoeding van _____
6. Touringcarbedrijf Sleehof heeft 15 nieuwe autobussen die ieder 9 ton wegen. Voor iedere autobus moet touringcarbedrijf motorvoertuigenbelasting betalen. Voor al die bussen is dat per jaar € _____
7. Je kunt je eigen huis meer waard laten worden door _____ en _____ en _____
8. De braadworst is bij slagerij Veens in de reclame en je betaalt voor een kilo verse braadworst geen _____, maar _____
9. Als je vakantieplannen zijn gewijzigd dan ga je niet _____, maar _____
10. Als een trainer van een voetbalelftal een speler vervangt dan doet hij dat omdat _____ of _____ of _____

11. Als Lisa elke morgen veel aandacht besteedt aan haar uiterlijk dan _____

Deel C:

Opdracht 1:

Leer de onderstaande woorden!

21. **de korting – de kortingen:** als je **korting** krijgt op een artikel of op een reis of voor een bezoek aan een museum of voor een wedstrijd of voor een concert, e.d. dan betaal je een lagere prijs dan gewoonlijk (je hoeft dan minder te betalen)

- Scholen krijgen per leerling €13,00 **korting** op de normale entreprijs van €28,00 voor attractiepark “Bobbejaanland” in België. Dan hoeven scholen dus maar €15,00 te betalen en ben je als school veel goedkoper uit.

Let op!

We hebben al diverse woorden geleerd als een “artikel” o.i.d. “goedkoper” is. We zetten ze nu voor je onder elkaar en jij noteert erachter wat deze woorden precies betekenen.

- **de opruiming:** _____
- grasmachines zijn **in de opruiming:** _____
- bruine bonen zijn **in de reclame:** _____
- **de prijs daalt – de prijs zakt:** _____
- **de aanbieding:** _____
- de tuinbanken zijn **in de aanbieding:** _____
- **de uitverkoop:** _____
- een jas **in de uitverkoop** kopen: _____
- **sale:** _____
- de shampoo is **afgeprijsd:** _____
- **de korting:** _____
- Je krijgt €2,50 **korting** als je 5 pakken Dubbel Friss koopt. _____
- **Twee halen één betalen:** _____

We hebben ook nog een ander woord geleerd voor “goedkoop”. Dat woord is “voordelig”. Als je een stoel **voordelig** koopt dan _____
Nu leer je nog een ander woord voor “goedkoop” en dat is “een koopje”.

- Hussein heeft nieuwe voetbalschoenen van het merk Adidas voor €22,50 gekocht. Dat is echt **een koopje**. Normaal betaal je voor deze voetbalschoenen €85,00.

22. **aanwezig**: als je **aanwezig** bent dan ben je er – bijvoorbeeld: Als je vader om acht uur op zijn werk is, dan is hij om acht op zijn werk **aanwezig**.

als iets **aanwezig** is dan is dat iets er – bijvoorbeeld:
Als er bij jullie in huis een stofzuiger is dan is er een stofzuiger **aanwezig**.

- Elke les controleren de docenten op onze school of alle leerlingen van de klas **aanwezig** zijn. Zij controleren via de klassenlijst op de computer of iedereen er is.

Let op!

Een ander woord voor “**aanwezig**” is “**present**”. Is iedereen **present**? _____

23. **afwezig**: als je **afwezig** bent dan ben je er niet

- Directeur Jacobs is zeker de komende drie maanden **afwezig** op zijn houtfabriek, omdat hij een ernstige leverziekte heeft. Omdat de heer Jacobs al die tijd niet op zijn fabriek is, worden zijn taken door de bedrijfsleider van deze fabriek, de heer Sleens, overgenomen.

Let op!

Een ander woord voor “**afwezig**” is “**absent**”. Tijdens de docentenvergadering was maar één docent **absent**. _____

24. **de berekening – de berekeningen**: een **berekening** is wat je door te rekenen te weten bent gekomen

- Als je tijdens een rekentoets altijd **de berekening** van elke opdracht moet opschrijven dan moet je laten zien wat je te weten bent gekomen door te rekenen. Een voorbeeld! Als je de berekening moet opschrijven van de vermenigvuldiging 36×47 dan doe je dat als volgt:

$$\begin{array}{r}
 36 \\
 \underline{X47} \\
 252 \\
 +1440 \\
 \hline
 1692
 \end{array}$$

Let op!

De berekening komt van het werkwoord “**berekenen**” (**berekende(n)** – **berekend**): als je iets **berekent** dan kom je iets te weten door te rekenen

25. **ingewikkeld**: als iets **ingewikkeld** is, is het moeilijk (te begrijpen)
 - De leerlingen van groep 6 van basisschool “Het Roosje” kregen van hun juffrouw de volgende som: “In een klas zitten 10 leerlingen. De juffrouw heeft 80 snoepjes. Zij geeft alle meisjes hetzelfde aantal snoepjes en ze houdt 3 snoepjes over. Hoeveel jongens zitten er in de klas?” Geen enkele leerling van groep 6 kon deze som goed uitrekenen. Deze som was gewoon te **ingewikkeld** voor deze leerlingen.

26. **het onderscheid**: (geen meervoudsvorm) – **het onderscheid** is een ander woord voor het verschil (= wat anders is)
 - “Kun jij mij vertellen wat **het onderscheid** is tussen het weer van vandaag en het weer van gisteren?” “Natuurlijk kan ik dat. Gisteren regende het de hele dag. Het was bewolkt, het waaide hard en het was 14 graden. Vandaag schijnt de zon de hele dag. Het is onbewolkt, 17 graden en het is windstil.”

27. **ontwerpen – ontwierp(en) – ontworpen**: als je iets **ontwerpt** dan bedenk je iets en werk je het uit op papier of op de computer wat je wilt maken (dat kan door een beschrijving of een tekening zijn)
 - Architecten gebruiken vaak de computer om mensen een idee te geven hoe een gebouw eruit zal zien als het over een tijdje gebouwd is. Maar hoe begint een architect? Als een architect een gebouw gaat **ontwerpen**, begint hij toch met een tekening op papier. Van deze tekening worden modellen en maquettes op schaal

gemaakt. Dan krijgen we al een duidelijk beeld van het nieuwe gebouw. Maar de architect gebruikt ook de computer. Met die computer kun je de werkelijkheid bijna echt laten zien. Je kunt als het ware door het toekomstige gebouw heenlopen, deuren openen en de lift nemen. Je kunt ook zien of iedereen genoeg ruimte heeft en of je het gebouw wel mooi vindt. Ook kan op deze manier berekend worden hoeveel bouwmaterialen er nodig zijn en wat de kosten daarvan zijn.

28. het percentage – de percentages: een percentage is een getal dat aangeeft om hoeveel procent het gaat

Let op! 1

- 1 procent = $\frac{1}{100}$ deel = 0,01

- Tijdens onze fietstocht in de zomervakantie vanuit Nederland naar Italië moesten we in de Alpen over hoge bergen fietsen. Er waren wegen die echt een behoorlijk **percentage** stegen. **Stijgingspercentages** van 12% tot 16% kwamen regelmatig voor. Zo betekent een **stijgingspercentage** van 12% dat je elke 100 meter, die je fietst, 12 meter stijgt en dat is best veel.

29. toepassen: ik pas toe – ik paste toe – ik heb toegepast (maar de schoolregels zijn toegepast): als je iets toepast dan gebruik je het zo dat je er wat aan hebt

- Leerlingen op de basisscholen leren veel verkeersregels. Dat is een goede zaak, maar de bedoeling van het leren van al die verkeersregels is dat de leerlingen die regels ook gaan **toepassen** als ze zelf in het verkeer lopen of fietsen. Als een leerling tijdens de verkeersles leert om voor een rood verkeerslicht te stoppen dan moet die leerling in het verkeer ook echt stoppen voor een rood verkeerslicht. Anders brengt hij (of zij) zichzelf en andere verkeersdeelnemers in gevaar. En dat is natuurlijk niet de bedoeling.

30. verlengen – verlengde(n) – verlengd: als je iets verlengt dan maak je iets langer of je laat iets langer duren

a. iets langer maken: een touw **verlengen**

b. iets langer laten duren: een sportwedstrijd **verlengen**

- Mijn buurman heeft voor deze maand een abonnement van een maand op het Eindhovens Dagblad genomen. Dat abonnement loopt dus aan het einde van deze maand af. Het Eindhovens Dagblad bevalt mijn buurman zo goed dat hij dit abonnement met een jaar wil **verlengen**. Dus die buurman van mij kan dan een heel jaar lang het Eindhovens Dagblad als abonnee lezen.

Opdracht 2:

Hieronder staan plaatjes en tekst. Noteer onder die plaatjes en onder die tekst het juiste woord of de juiste woorden! Kies uit de woorden die bij opdracht 1 staan!

Plaatje 1:

OPEL KARL 1.0 55KW EDITION	
Benzine, 5100 cc - Motor 4 jaar - 20.000 km per jaar*	
Aanschafprijs	€ 9.300
Afleverkosten	€ -
Restwaarde (inschatting)	€ 5.000
Autokosten per maand:	
1. Waardevermindering en rente**	€ 111
2. Vaste kosten, waarvan:	€ 83
- verzekering (WA-casco)	€ 41
- motorrijtuigenbelasting	€ 22
- overige***	€ 21
3. Reparatie, onderhoud en banden	€ 45
Totale kosten per maand	€ 239
Aanschaf als occasion in sept/okt 2017	
Bouwjaar 09/2015 - kilometerstand ca. 20.000	

17 / 116331 \ 6843
 102 : : :
 143 : : :
 136 : : :
 73 : : :
 68 : : :
 51 : : :
 51 : : :
 0

Plaatje 2:



Plaatje 3:

Leeftijdsgroep	Motorbezitters 2015		Omgekomen motorrijders 2015	
	#	%	#	%
Jonger dan 18	0	0 %	2	4,3 %
18-24	20.027	3,1 %	6	12,8 %
25-29	46.621	7,1 %	8	17,0 %
30-39	97.773	15,0 %	8	17,0 %
40-49	159.170	24,4 %	14	29,8 %
50-59	200.677	30,8 %	5	10,6 %
60-64	59.035	9,1 %	4	8,5 %
65 en ouder	56.715	8,7 %	0	0 %
Totaal	652.544	100,0 %	47	100,0 %



Plaatje 4:



Plaatje 5:



Plaatje 6:



Plaatje 7:

Ik ben erbij!
En jij??
Kom je ook?



Plaatje 8:



Plaatje 9:



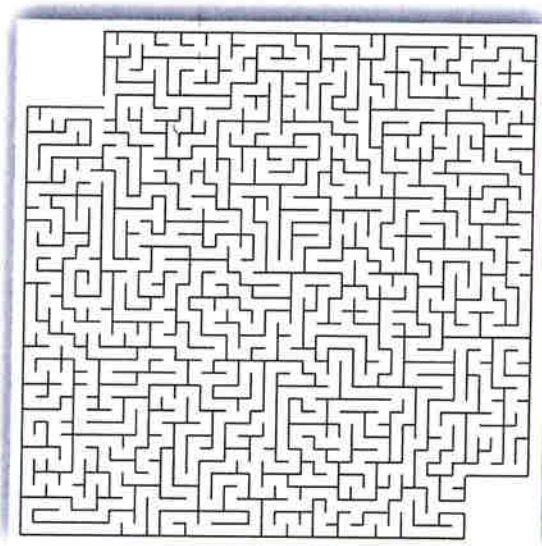
ZIJN DE'R EFFE NIET!!!
GROETJES, DE DAMAD-TJES

Oscor
2010

Plaatje 10:

Vereenvoudig het antwoord zoveel mogelijk.

$$\frac{1^{8/15} \times 3^{3/37} : 2/185 + 1/5 (1^{2/3} : 1/10 + 3^{1/4} \times 3^{1/3})}{1^{8/15} \times 3^{3/37} : 2/185 - 1/5 (1^{2/3} : 1/10 + 3^{1/4} \times 3^{1/3})} + \\ + 1/15 : 4/5 \times 3/14 : 1/2 - 11/18 =$$



Opdracht 3:

Beantwoord de onderstaande vragen en opdrachten op de juiste wijze!

1. Bij het bedrijf van de vader van Niels maken ze allerlei dingen van plastic zoals messen, vorken, eetborden, drinkbekers, dienbladen, gieters, broodtrommels en lepels. Sinds januari kunnen alle personeelsleden met personeelskorting de eigen gemaakte producten van het bedrijf zelf kopen. Wat wordt er hier met personeelskorting bedoeld?
2. Harold vertrekt vrijdag om 16.00 uur vanaf luchthaven "Schiphol" naar Tunesië voor een welverdiende vakantie van twee weken. Om hoe laat moet Harold dan op "Schiphol" aanwezig zijn?
3. Wat moet je doen als je hier op school afwezig bent en je moet eigenlijk wel op school zijn?
4. Hoeveel reiskostenvergoeding ontvangt Nimo van haar bedrijf per vier weken als zij €0,19 per kilometer krijgt en zij vijf dagen per week 22 km per dag reist? Noteer de berekening hiervan!

5. Bedenk zelf een ingewikkelde opdracht voor je klasgenoten! (Lukt het jezelf niet om zo'n opdracht te bedenken dan kan het internet je natuurlijk nog helpen.)
6. Wat is het onderscheid tussen "tot" en "tot en met" in "tot 20 augustus" en "tot en met 20 augustus"?
7. Ontwerp je eigen stoel waarmee je hier op school de lessen wilt volgen!
8. Hoeveel bedraagt het vetpercentage van een goedgeïmde marathonloper?
9. Noteer een schoolregel! Leg uit waarom deze schoolregel wel of niet goed wordt toegepast !
10. Mevrouw Hansen (31 jaar) wil haar rijbewijs verlengen.
 - a. Waarom zou ze dat willen doen?
 - b. Wat heeft ze hiervoor nodig?
 - c. Waar kan ze dat doen?

Opdracht 4:

Zijn de onderstaande zinnen waar of niet waar? Noteer op de juiste wijze waar of niet waar achter elke zin!

1. Als je korting op een winterjas krijgt dan krijg je er een paar handschoenen gratis bij.
2. Als er twintig gasten op het feest van Ellen aanwezig zijn dan zijn er twintig gasten op het feest van Ellen.
3. Als onze rekenleraar afwezig is op school omdat zijn vrouw van een dochter is bevallen dan krijgen we gewoon rekenles van onze rekenleraar.
4. Als Sjef Dingemans een juiste berekening maakt van de kosten van de vakantie als hij met zijn hele gezin naar Noorwegen gaat van 2 tot en met 22 augustus dan weet hij hoeveel geld hij moet betalen voor deze vakantie.
5. Als een chirurg (= een dokter die opereert) een ingewikkelde hartoperatie moet uitvoeren dan voert hij een eenvoudige operatie uit.
6. Als er geen onderscheid tussen die twee vazen is dan zijn die vazen precies hetzelfde.
7. Als jij je droombadkamer in je nieuwe huis gaat ontwerpen dan bedenk je eerst hoe jij wilt hoe die badkamer eruit gaat zien en dan werk je die ideeën uit op papier of op de computer.

8. Als je een percentage zakt dan zak je door het ijs en dan word je helemaal nat.
9. Als je een broek toepast dan trek je die broek aan en voel je of die broek prettig zit.
10. Als Frits zijn vakantie in Frankrijk met een week verlengt dan duurt die vakantie van Frits in Frankrijk een week langer.

Opdracht 5:

Hieronder staan zinnen. In die zinnen moeten de juiste woorden worden ingevuld. Kies uit de woorden van opdracht 1!

1. Begin juni kwam er een groep van 50 leerlingen uit Engeland een hele week bij ons op school op bezoek. Omdat deze leerlingen geen Nederlands spraken en wij wel Engels moesten we deze leerlingen de hele week in het Engels begeleiden. Alles wat we in de Engelse les hadden geleerd, konden we nu _____. In het Engels groeten, afscheid nemen, je zelf voorstellen, vragen stellen, iemand uitnodigen, iemand waarschuwen, de weg wijzen, rondleiden in en buiten de school, informeren over allerlei zaken, e.d. Dat lukte de meeste leerlingen heel aardig en het was natuurlijk een goede oefening voor ons om het Engels van ons te verbeteren.
2. De autosnelweg A15, die begint op de Maasvlakte, loopt nu dood bij het plaatsje Bemmelen. Het Ministerie van Verkeer wil deze autosnelweg met 12 kilometer _____ naar de autosnelweg A12 tussen Duiven en Zevenaar. Vanaf die aansluiting zijn automobilisten binnen 10 minuten in Duitsland. De kosten voor deze 12 kilometer autosnelweg worden op 860 miljoen euro geschat.
3. In leerjaar 1 van het VWO van het Groenlandcollege in Zaandam zit sinds vorige maand een nieuwe leerling, Rutger, in klas V1C. Al direct werd duidelijk dat Rutger anders was dan zijn klasgenoten. Vooral zijn spreken was anders. Zijn klasgenoten begrepen hem vaak niet. Zo sprak hij vanmorgen de volgende zin tegen de leraar Nederlands: "Ik entameer regelmatig met chargeren terwijl ik mijn huiswerk aan het procrastineren ben omdat ik nou eenmaal ontzettend recalcitrant ben." Ook van deze zin begrepen zijn klasgenoten

weer niets, omdat Rutger steeds woorden gebruikt die _____ zijn.

4. Als je kleding wilt gaan _____ dan volgen hier een aantal tips:
- Zorg eerst voor eigen nieuwe ideeën!
 - Begin deze ideeën te tekenen op papier of met een computerprogramma!
 - Gebruik kleuren!
 - Maak gebruik van accessoires zoals riemen, sjaals, hoeden, sieraden of schoenen!
 - Leer kleren te naaien!
 - Kies de juiste stof uit en zet je kleding in elkaar!
 - Laat je kledingstukken aan anderen zien! (online, modeshows)
5. Het Berlagelyceum in Almelo heeft aan het einde van vorig schooljaar 400 laptops bij het computerbedrijf "Compuslag" gekocht. Als een school zo'n groot aantal laptops in één keer koopt bij dit bedrijf dan krijgt de school 10% _____ en betaalt de school geen €400,00 maar €360,00 per laptop.
6. Op de open dag op onze school op zaterdag 26 januari waren alle leraren _____. Geen enkele leraar was op deze dag verhinderd door ziekte of door een afspraak buiten school, o.i.d. Iedere docent had dan ook een eigen taak zoals het rondleiden van bezoekers door onze school, informatie geven aan bezoekers over onze school, korte lesjes geven aan de bezoekers op deze open dag.
7. Stien Bazen wil haar slaapkamer vernieuwen. Maar voordat ze dat gaat doen, wil ze weten wat dat allemaal gaat kosten en daarom maakt ze eerst een _____ van alle kosten:
- | | |
|---|------------------|
| - 22 rollen behang – per rol €4,50 | = € 99,00 |
| - vloerbedekking €8,25 per m ² maal 30 | = €247,50 |
| - bed (inclusief matras en kussen en dekbed) | = €775,00 |
| - 3 kasten per stuk 125 euro | = €375,00 |
| - een nachtkastje | = € 25,00 |
| - spiegel | = € 45,00 |
| - tafeltje | = € <u>33,50</u> |
| Totaal | = €1600,00 |

8. Mijn huisarts, dokter Staals, is tijdens de zomervakantie van 16 juli tot en met 5 augustus _____. Als ik in deze periode toch naar de huisarts wil gaan dan kan ik met de doktersassistente van huisarts Willems een afspraak maken. Na 5 augustus kan ik gewoon weer naar mijn eigen huisarts.
9. Soms denken mensen dat “pesten” en “plagen” hetzelfde zijn, maar dat is niet zo. Hieronder wordt het belangrijkste _____ tussen pesten en plagen aangegeven:
- Pesten gebeurt met opzet (= expres) – plagen niet.
 - Pesten gebeurt telkens opnieuw tegen dezelfde persoon – plagen gebeurt af en toe en tussen verschillende mensen.
 - Bij pesten is sprake van ongelijkheid (in macht of kracht – bijv. een groep tegen één persoon – bij plagen is dat veel minder aanwezig en zijn de personen ongeveer even sterk.
10. De rector (= directeur) van de Technische Universiteit Eindhoven wilde wel eens weten hoe hoog het _____ ziekteverzuim onder de personeelsleden op zijn universiteit is. Hij ging zelf aan het rekenen. Elke dag zijn gemiddeld 66 medewerkers ziek en het personeelsbestand bestaat uit 1650 personen. $66 \text{ gedeeld door } 1650 \text{ keer } 100 = 4\%$. Dat betekent dus dat gemiddeld 4 op de 100 medewerkers ziek zijn.

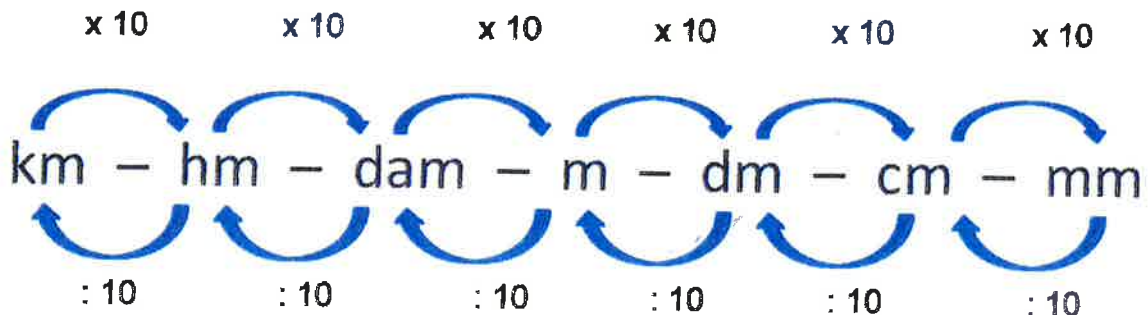
Opdracht 6:

Vul de onderstaande zinnen op de juiste wijze aan en in!

1. Elke auto moet verzekerd zijn. Daarvoor betaalt de eigenaar van die auto een bepaald bedrag aan de verzekeringsmaatschappij. Op dat bedrag krijgt de eigenaar elk jaar korting als hij of zij _____
2. Als er tijdens de toetsweek voor klas OT27 negentien computers in het computerlokaal aanwezig zijn om de rekentoets door de leerlingen te laten maken en er zitten 20 leerlingen in deze klas dan _____
3. Op onze school houden alle leraren via een computerprogramma bij welke leerlingen van een klas tijdens een les afwezig zijn omdat _____
4. Je doet tijdens de zomervakantie drie weken vakantiewerk bij hout-handel “Delen” in Heeze. Dan wil je ook weten hoeveel je in deze _____

drie weken gaat verdienen. Je werkt per week vijf dagen van 's morgens half acht tot 's middags half zes. Je hebt een uur pauze per dag en je krijgt €4,25 netto per uur. Dan maak je de volgende berekening: "Ik werk per dag ___ uur. Dat is _____ uur per week en dat keer drie weken is _____ uur. En dat keer €4,25 netto per uur is _____.

5. Een knikker en een bal kosten samen €1,10. De bal kost één euro meer dan de knikker. Hoeveel kost die knikker? Die knikker kost _____. Is dit een ingewikkelde som? _____ Waarom? _____
6. Op het MBO kun je heel veel opleidingen volgen. Veel opleidingen kun je via BBL of BOL volgen. Het onderscheid tussen BBL en BOL op het MBO is _____
7. Als jij je droomauto ontwerpt dan ga je eerst _____ dan _____ daarna _____ en tenslotte _____
8. Om je autorijbewijs te halen moet je een theorie- en een praktijk-examen afleggen. Het slagingspercentage (= dat is het percentage dat het examen haalt) bij het theorie-examen is _____ en bij het praktijkexamen is _____
9. Hieronder staat een schema m.b.t. de lengtematen. Pas dit schema in drie eigen sommen toe!



10. Als Eva haar rok met 5 cm laat verlengen dan _____

Deel D:

Opdracht 1:

Leer de onderstaande woorden!

31. **2 m bij 1 m:** (de getallen 2 en 1 zijn als voorbeelden gebruikt – je kunt hier heel veel andere getallen (= lengtematen) invullen: 2 m bij 1 m geeft aan hoe groot iets is: 2 m = 2 meter = **de lengte** en 1 m = 1 meter = **de breedte** – ook kan hiervoor “**de hoogte**” gebruikt worden

- Als een vloerkleed **4 m bij 3 m** is dan betekent dat dat het vloerkleed **4 meter lang** en **3 meter breed** is.

32. **de plattegrond – de plattegronden:**

a. een plattegrond van bijvoorbeeld een dorp, een stad, een woonwijk, een camping of een park is een kaart waarop (in het klein) de straten, de gebouwen, de rivieren, de bossen, de weilanden, de sportvelden, e.d. zijn getekend en waar je van bovenaf op kijkt

b. een plattegrond van een gebouw is een tekening waarop (in het klein) alle kamers, ramen, deuren, e.d. staan en waar je van bovenaf op kijkt

- Om alle attracties in de Efteling op één dag te bezoeken, hebben Jasmijn en Inge op **de plattegrond** van de Efteling de juiste route aangegeven om zo snel mogelijk van de ene naar de andere attractie te komen zodat ze geen extra tijd aan lange wandelingen in de Efteling kwijt zijn.

33. **het statiegeld:** (geen meervoudsvorm): statiegeld is geld dat je extra moet betalen voor volle potjes, flessen, kisten, pallets of kratten en dat extra betaalde geld krijg je terug als je die potjes, flessen, kisten, pallets of kratten leeg terugbrengt

- Deze fles Fanta kost eigenlijk maar €1,05 bij deze supermarkt, maar ik moet bij de kassa €1,55 betalen. Dat komt doordat er op die fles **statiegeld** zit. Als ik diezelfde fles de volgende keer leeg inlever bij deze supermarkt krijg ik die extra betaalde 50 eurocent terug.

34. **de afmeting – de afmetingen:** de afmeting van iets geeft een maat aan hoe lang of hoe breed of hoe hoog iets is (soms wordt ook wel aangegeven hoe dik iets is)
- **De afmetingen** van een pak melk van anderhalve liter zijn 9 cm bij 7,5 cm bij 24,5 cm. Dus dat pak melk is 9 cm lang en 7,5 cm breed en 24,5 cm hoog.

35. **uitgezonderd:** uitgezonderd betekent “behalve”, “telt niet mee”, “niet meegerekend”, “zonder”
- Iedereen van onze klas gaat mee op schoolkamp **uitgezonderd** Hassan. Hij gaat dus niet mee, omdat hij zijn bovenbeen heeft gebroken.

Let op!

- **de uitzondering – de uitzonderingen:** een uitzondering is iets wat anders is dan hoe het normaal is
- De kinderen van Ali en Theo moeten elke avond om acht uur naar bed. **Een uitzondering** hierop is op oudejaarsavond. Dan mogen hun kinderen tot half één 's nachts opblijven om naar al dat mooie vuurwerk te kijken dat vanaf 12 uur 's nachts wordt afgestoken.

36. **de eindstand – de eindstanden:** de eindstand is....
- a. de uitslag (= het resultaat) aan het einde van een wedstrijd
 - Barcelona speelt een voetbalwedstrijd tegen Real Madrid. Aan het einde van deze wedstrijd staat het 3 – 2 voor Barcelona. Dat is dus **de eindstand** van deze wedstrijd.
 - b. het resultaat van een aantal gespeelde wedstrijden (o.a. bij een toernooi of bij een competitie)
 - Nadat iedere handbalclub 22 wedstrijden in de hoofdklasse mannen heeft gespeeld, is deze competitie afgelopen en is **de eindstand** bekend:
 - 1^e Swift uit 22 wedstrijden 36 punten
 - 2^e E en O uit 22 wedstrijden 34 punten
 - 3^e Sittardia uit 22 wedstrijden 33 punten
 - c. het resultaat van een inzamelingsactie (hoeveel er is “opgehaald”)
bijv. geld, oud papier, kleren, voedsel, plastic, knuffeldieren

- Rugbyclub RHC uit Roosendaal haalt iedere tweede zaterdag van de maand oud papier op in Roosendaal. Op 7 januari heeft de voorzitter van RHC bekend gemaakt hoeveel kilo oud papier er vorig jaar is opgehaald. **De eindstand** bedraagt 102.452 kilo oud papier.

37. **in vergelijking met:** als je “in vergelijking met” gebruikt dan vergelijk je dingen, mensen, dieren of gebeurtenissen met elkaar op één “punt” (of “eigenschap” of “kenmerk”)

- Sander is lang **in vergelijking met** kinderen van dezelfde leeftijd. Wat hebben we hier gedaan? We hebben de lichaamslengte van Sander (12 jaar) gemeten: 190 cm. We hebben de gemiddelde lengte van 12-jarigen op internet opgezocht: 165 cm. Als we dan naar de lichaamslengte van Sander en naar de gemiddelde lichaamslengte van 12-jarigen kijken, zien we dat Sander 25 cm langer is. Dus is Sander lang **in vergelijking met** kinderen van dezelfde leeftijd. (Dus vergelijken we hier “lengtes” met elkaar.)

Let op!

- **vergelijken – vergeleek – vergeleken – vergeleken:** als je dingen, mensen, dieren of gebeurtenissen met elkaar vergelijkt dan kijk je naar de verschillen (= wat is anders) en naar de overeenkomsten (= wat hetzelfde is)

Voorbeeld!

WIE OF WAT WORDEN VERGELEKEN?	VERSCHILLEN		OVEREENKOMSTEN
	Bert	Erik	
De fietsen van Bert en Erik	groen	zwart	<ul style="list-style-type: none"> - herenfiets - handremmen - dichte kettingkast - 7 versnellingen - stadsfiets - voor- en achterlicht - bagagedrager - frame 53 cm
	Gazelle	Batavus	
	mand	geen mand	
	geen fietstassen	fietstassen	
	fietscomputer	geen fietscomputer	

38. de overeenkomst – de overeenkomsten: als er een overeenkomst tussen dingen, mensen, dieren of gebeurtenissen is dan is dat hetzelfde

- Of ik **een overeenkomst** tussen een pen en een potlood kan opnoemen? Ja, natuurlijk! Je kunt zowel met een pen als met potlood schrijven en tekenen.

39. verwijderen –verwijderde(n) – verwijderd:

a. als iets wordt verwijderd dan wordt ervoor gezorgd dat iets weggaat of verdwijnt

- Met een natte doek **verwijderde** Lia al het vuil van de tafel. (Het vuil is weg en de tafel is schoon.)

b. als iemand wordt verwijderd dan wordt ervoor gezorgd dat iemand weggaat of verdwijnt

- De directeur **heeft** die brutale leerling van onze school **verwijderd**. (Die brutale jongen gaat weg van school en komt niet meer op onze school terug.)

- Tijdens het kerstdiner had moeder wijn op haar nieuwe jurk geknoeid. De volgende dag **heeft** ze die wijnvlekken met soda, water en een doekje uit haar nieuwe jurk **verwijderd**. Nu zitten er geen wijnvlekken meer in haar nieuwe jurk.

40. de verpakking – de verpakkingen: de verpakking is het materiaal waarin iets is verpakt (o.a. papier, plastic, karton, hout, glas, blik, folie, kunststof)

- Elke inwoner in Nederland opent dagelijks gemiddeld zeven **verpakkingen**. Dat kan een zakje snoep, een flesje frisdrank, een kuipje boter, een tube tandpasta of een potje jam zijn. (En natuurlijk nog vele andere dingen.)

Let op!

- **verpakken – verpakte(n) – verpakt:** als je iets verpakt dan doe je er bijvoorbeeld papier omheen of stop je het in een doosje of in een kist om

- niet te laten zien wat het is (cadeautje in pakpapier)

- of om het te versturen (fietscomputer als pakketje in een doosje)
- of om ergens mee naar toe te nemen (brood in een plastic zakje)
- of om het langer te bewaren (groente in blik)
- of om het niet te beschadigen (posters in hard kartonnen kokers)

- Deze supermarkt heeft een machine om gesneden vleeswaren te verpakken. Wat doet die machine dan eigenlijk? _____
 “verpakken” betekent bijna hetzelfde als “inpakken”

Opdracht 2:

Hieronder staan plaatjes en tekst. Noteer onder die plaatjes en onder die tekst het juiste woord of juiste woorden! Kies uit de woorden die bij opdracht 1 staan!

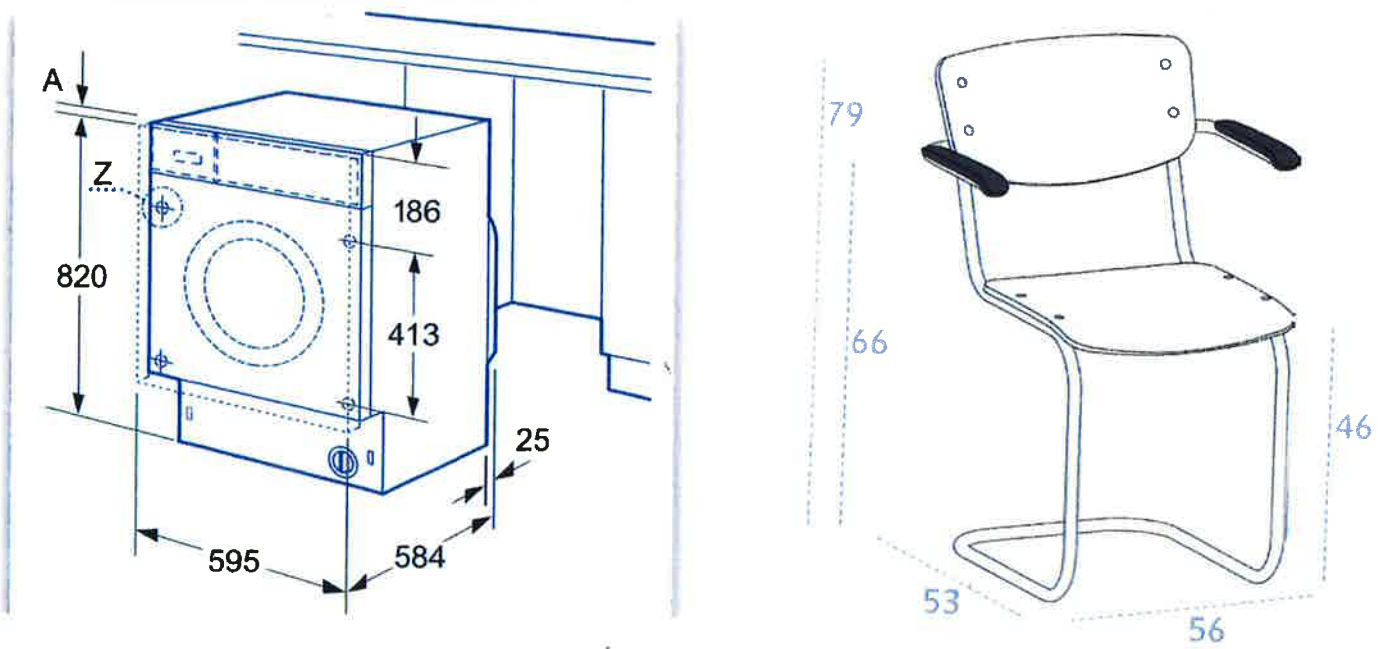
Plaatje 1:



Plaatje 2:



Plaatje 3:



Plaatje 4:



Wat is hetzelfde?



Wat is hetzelfde?

Plaatje 5:



Plaatje 6:



1.	PSV CL	34	26	6	2	84	88-32
2.	Ajax vCL	34	25	7	2	82	81-21
3.	Feyenoord EL	34	19	6	9	63	62-48
4.	AZ vEL	34	18	5	11	59	79-53
5.	FC Utrecht	34	15	8	11	53	57-48
6.	Heracles	34	14	9	11	51	47-49
7.	FC Groningen	34	14	8	12	50	41-48
8.	PEC Zwolle	34	14	6	14	48	56-54
9.	Vitesse	34	12	10	12	46	55-38
10.	NEC	34	13	7	14	46	37-42
11.	ADO Den Haag	34	10	13	11	43	48-49
12.	Heerenveen	34	11	9	14	42	46-61
13.	FC Twente -3	34	12	7	15	40	49-64
14.	Roda JC	34	8	10	16	34	34-55
15.	Excelsior	34	7	9	18	30	34-60
16.	Willem II NC	34	6	11	17	29	35-53
17.	Graafsch. NC	34	5	8	21	23	39-66
18.	Canbuur **	34	3	9	22	18	33-79

programma op 818 / topscorers op 832
volgende nieuws sport voetbal

Dames A

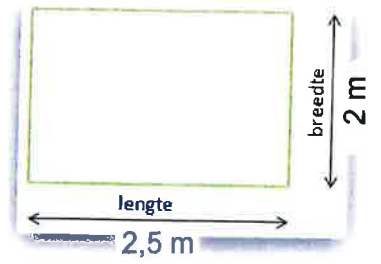

Bekijk het hele overzicht van deze poule op [Eerste Klasse Dames Poule A](#).

- Alkmaar – Overbos 6-2
- Amstelveen – AthenA 1-3
Doelpunten AthenA: Eline Claessens, Sara Tillart, Maartje de Nie
- HBS – AMVJ 3-0
- Haarlem – Myra 3-5
- Naarden – Hilversum 1-0
Goal: Dees Pellens
- Qui Vive – Alliance 1-1

Plaatje 7:



Plaatje 8:



Plaatje 9:



Plaatje 10:



Opdracht 3:

Beantwoord de onderstaande vragen en opdrachten op de juiste wijze!

1. Arie heeft een tuin van 12 m bij 8 m. Van de helft van deze tuin maakt hij een moestuin voor groenten (o.a. sla, bonen, tomaten en prei). Hoe groot wordt die moestuin van Arie? _____
2. Teken een plattegrond van je slaapkamer!
3. Hoeveel statiegeld krijg je voor een kratje met 12 lege bierflesjes van 0,25 liter per flesje? _____
4. Wat zijn de afmetingen van een vel A-4 papier? _____
5. In heel Europa rijdt het verkeer rechts uitgezonderd in Groot-Brittannië en in Ierland. Wat betekent deze zin precies? _____

6. De eindstand van de hockeywedstrijd Oranje Rood tegen Kampong is 4 – 4. Wat betekent dat voor zowel Oranje Rood als voor Kampong? _____
7. Vul in en vul aan! Ik ben in vergelijking met _____ jong, want _____
8. Noem vijf overeenkomsten tussen de steden Eindhoven en Tilburg!

9. Wat doe je als je bestanden van je computer verwijdert? _____
10. Rijst kun je in een supermarkt kopen. In wat voor soort verpakking zit die rijst dan? _____

Opdracht 4:

Zijn de onderstaande zinnen waar of niet waar? Noteer op de juiste wijze waar of niet waar achter elke zin!

1. Als een voetbalveld 100 m bij 50 m is dan is de omtrek van dat voetbalveld 150 meter.
2. Als je op een plattegrond loopt dan stijgt en daalt je niet, want de grond van een plattegrond is plat. Kilometers lang.
3. Als je een pot appelmoes koopt en op die pot appelmoes zit €0,25 statiegeld dan moet je die €0,25 eerst betalen als je die pot appelmoes koopt en krijg je die €0,25 terug als je die lege pot, waarin de appelmoes zat, weer inlevert.
4. Als de afmetingen van een tafeltennistafel 247 cm bij 152,5 bij 76 cm zijn dan is die tafeltennistafel 247 cm lang en 152,5 cm breed en 76 cm hoog.
5. Als het "Natuurmuseum" in Twello elke dag van 10.00 uur tot 18.00 uur geopend is uitgezonderd op de eerste maandag van de maand dan kun je dat museum elke dag bezoeken, maar niet op de eerste maandag van elke maand.
6. Als de eindstand van een wedstrijd bekend is dan weet je welke speler of spelers er gewonnen of verloren hebben.
7. Als Carla in vergelijking met Karel lui is dan is Carla lui en Karel niet.
8. Een overeenkomst tussen een fiets en een scooter is dat ze allebei twee wielen hebben.

9. Als er een wespennest onder het dak van het huis van de burens zit en de buurman verwijdert dit wespennest dan zorgt hij ervoor dat dat hele wespennest verdwijnt. Van dat wespennest blijft dan gewoon niets meer over.
10. Op de verpakking van sigaretten staat: "Roken is dodelijk!"

Opdracht 5:

Hieronder staan zinnen. In die zinnen moeten de juiste woorden worden ingevuld. Kies uit de woorden van opdracht 1!

1. Als je met een vliegtuig van de KLM vliegt, mag je zonder extra kosten handbagage meenemen in een tas of koffer met de volgende maximale _____: lengte 31 cm, breedte 25 cm en hoogte 55 cm met een maximaal gewicht van 12 kilo.
2. Op 17 mei vorig jaar vond er een wandelmarathon tegen kanker plaats. De wandelaars van deze marathon (42 km en 195 m) liepen vanaf het Antoni van Leeuwenziekenhuis in Amsterdam naar Alkmaar. Alle wandelaars werden door collega's, bekenden en familieleden gesponsord om zoveel mogelijk geld op te halen om alle vormen van kanker de wereld uit te krijgen. _____ van deze sponsorwandelmarathon bedroeg €35.102,00.
3. Toen ik laatst in de bibliotheek in Veldhoven was, hoorde ik het volgende omroepen: "Attentie, attentie! Een blauwe Audi met kenteken CB-33-DT staat op de stoep voor de bibliotheek geparkeerd. Wil de eigenaar van deze Audi zijn auto daar zo snel mogelijk _____ zodat alle voetgangers weer normaal van deze stoep gebruik kunnen maken.
4. Te koop: een grote spiegel van _____. Zeer geschikt voor een sportschool of een dansstudio. Dus die spiegel is 4 meter lang en 2 meter hoog en is te koop voor €400,00.
5. Sneeuw en regen zijn natuurlijk niet hetzelfde. Dat weten we allemaal. Iedereen kan het verschil tussen regendruppels en sneeuwvlokken zien en voelen. Maar toch zijn er ook enkele _____ tussen die twee:
 - regen en sneeuw zijn allebei vormen van neerslag
 - zowel regen als sneeuw ontstaat in een wolk

- regendruppels en sneeuwvlokken vallen uit een wolk op de aarde
- regen en sneeuw ontstaan allebei uit waterdamp

6. Om houdbare melk echt langere tijd te kunnen bewaren, bestaat de _____ hiervan uit diverse lagen:

- aan de buitenkant een dun laagje plastic tegen vocht van buitenaf
- een laagje karton dat bedrukt kan worden met allerlei informatie over die melk
- een laagje opvulkarton en bruin karton om het allemaal stevig genoeg te maken
- een laagje plastic tegen lekken van de melk
- een laagje aluminiumfolie om de melk tegen het licht te beschermen

7. Bij aankomst bij camping "de Paal" in Bergeijk kreeg de familie Hellers van de receptioniste een _____ van de camping waarop de route stond aangegeven naar hun gereserveerde kampeerplaats C12. Zo hoefde de familie Hellers niet te zoeken naar hun kampeerplaats C12 of te vragen aan campinggasten waar kampeerplaats C12 te vinden was.

8. Voor gasflessen van Benegas Light betaal je _____.

Dat betekent dat je bij aankoop van zo'n fles €50,00 per gasfles extra betaalt. Als die gasfles leeg is, zijn er twee mogelijkheden:

- je ruilt de lege gasfles om voor een volle gasfles en je betaalt alleen de vulling (= het gas)
- of je neemt geen nieuwe gasfles en levert de lege gasfles in en je krijgt die extra betaalde €50,00 terug

9. Sinds 2010 is het in Duitsland verplicht voor voertuigen met een motor (o.a. personenauto's, vrachtauto's en bussen) onder winterse omstandigheden zoals bij sneeuw en ijzel met winterbanden te rijden. _____ hierop zijn de motorrijders. Zij hoeven dan dus niet met winterbanden te rijden omdat er nog steeds onvoldoende geschikte winterbanden voor motoren zijn.

10. _____ de inwoners van zuidelijke landen in Europa sporten de inwoners van noordelijke landen in Europa meer en vaker. Bijna 68% van de inwoners van o.a. Denemarken, Zweden, Finland en Noorwegen sport minimaal twee keer per week en doet dit minimaal anderhalf uur per keer. Maar slechts 42% van de inwoners van o.a. Portugal, Spanje, Italië en Griekenland doet maar één keer per week aan sport en doet dat maar

steeds een uurtje. De overige inwoners van zowel de noordelijke als de zuidelijke landen in Europa doen nauwelijks iets aan sport.

Opdracht 6:

Vul de onderstaande zinnen op de juiste wijze aan en in!

1. Als jij je terras van 4 m bij 4 m wilt betegelen met tegels van 40 cm bij 40 cm dan heb je precies _____ tegels nodig.
2. Als jij een plattegrond van de derde verdieping van je school tekent dan teken je _____
3. Of je statiegeld voor een fles cola moet betalen, weet je pas als je _____
4. Truus en Sjaak willen van een gedeelte van hun nieuwe tuin een mooi gazon (= grasveld) aanleggen. Bij Graszodenkopen.nl hebben ze 15 graszoden besteld met afmetingen van 250 cm bij 40cm bij 1,5 cm zodat ze een gazon kunnen aanleggen ter grootte van _____
5. Tijdens de herfstvakantie hadden we de hele week prachtig weer uitgezonderd _____ want _____
6. Vorig jaar hebben de autocoueurs van de Formule 1 (= de snelste raceauto's) over de gehele wereld wedstrijden tegen elkaar gereden. Na al die races was de eindstand: 1^e _____ 2^e _____ en 3^e _____
7. In vergelijking met een topvoetballer verdient een leraar _____ want _____
8. De Nederlandse en de Engelse taal zijn natuurlijk niet hetzelfde. Toch zijn er ook overeenkomsten zoals _____ en _____ en _____ en _____ en _____ en _____
9. Richard wordt tijdens de voetbaltraining door de trainer van de training verwijderd omdat hij _____ en hij moet nu _____
10. Op verpakkingen waarin voedsel (= eten) zit, staat een (uiterste) houdbaarheidsdatum. Deze (uiterste) houdbaarheidsdatum staat op deze verpakkingen omdat _____

Deel E

Opdracht 1:

Leer de onderstaande woorden!

41. **de rit – de ritten:** als je een rit maakt dan rijd je een bepaalde afstand met een vervoermiddel (o.a. fiets, auto, bus, trein) of op een rijdier (o.a. een paard, een ezel, kameel)

Let op!

“rit” komt van het werkwoord “rijden”

- Als jij je autorijbewijs wilt halen, moet je een theorie- en een praktijkexamen afleggen. Bij het praktijkexamen rijd je dan een **rit** met de auto die ongeveer 35 minuten duurt. De rijexaminator, die dan naast je zit, vertelt jou waar je heen moet rijden. Hij wil een zo goed mogelijk beeld van jou als zelfstandige bestuurder krijgen en je moet dan laten zien dat jij die auto in diverse verkeerssituaties goed onder controle hebt.

42. **bestellen – bestelde(n) – besteld:** als je iets bestelt dan

a. geef je iemand een opdracht om iets te komen brengen of te geven
- Je bent in een snackbar en je **bestelt** een frietje en een kroket. Wat doe je dan? _____

b. of je zorgt ervoor dat je iets krijgt (wat er op dat moment niet is) door iemand daarvoor een opdracht te geven (en daarvoor moet je wel vaak betalen)

- Je bent bij een autobedrijf en je **bestelt** een nieuwe auto. Wat doe je dan? _____

Let op!

- **de bestelling – de bestellingen:** een bestelling is wat je besteld hebt (dat kunnen één of meer dingen zijn)

- De conciërge van onze school vertelde mij dat zijn **bestelling** bij meubelfabriek “De Trede” binnen was gekomen. Daarmee bedoelde de conciërge de 15 nieuwe kasten, die hij vorige week bij deze meubelfabriek **besteld** had, en bedoeld zijn voor de lokalen op de eerste verdieping van onze school.

43. **de bodem – de bodems:** de bodem van een voorwerp (= ding) is de onderkant van dat voorwerp waarop je iets kunt leggen – de bodem van bijv. een glas, een doos, een kist, een mand, een ton, een bakje, een pot

- Een koekenpan is een ronde pan met een lage (= niet hoge) rand en een behoorlijk grote vlakke **bodem** en met een lange steel om de pan goed vast te kunnen houden en waarmee je gemakkelijk pannenkoeken kunt bakken. Door die vlakke **bodem** blijft die pannenkoek netjes recht op de **bodem** van die koekenpan liggen.

44. a. **fulltime (= voltijds):** fulltime wordt vaak gebruikt om aan te geven hoeveel tijd iemand werkt – als je fulltime werkt dan werk je alle dagen van de werkweek (dat is zo'n 36 tot 40 uur per week),

b. **parttime (= deeltijd):** parttime wordt vaak gebruikt om aan te geven hoeveel tijd iemand werkt – als je parttime werkt dan werk je een deel van een normale werkweek – bijv. elke dag 3 uur of alleen maar elke morgen of alleen op dinsdag en vrijdag de hele dag

- De vaders van Timo en Leo werken allebei op het Vreeland College in Middelburg. De vader van Timo werkt er **fulltime**. Elke schooldag is hij op het Vreeland College van 's morgens acht uur tot 's middags vijf uur om les te geven, lessen voor te bereiden, te vergaderen en gesprekken met leerlingen en ouders te voeren. De vader van Leo werkt als conciërge op deze school en werkt er **parttime**. Hij werkt alleen op maan-, woens- en vrijdag. In zo'n 24 uur per week voert hij allerlei conciërgewerkzaamheden uit op deze school.

45. **de rekening – de rekeningen:** een rekening is een papier (of te zien op je computerscherm) waarop staat hoeveel je moet betalen (vaak staat er ook op waarvoor je dat moet betalen)

Let op! Andere woorden voor “de rekening” zijn “de factuur” “de facturen” en “de nota” “de nota’s”.

- Na zijn bezoek aan de tandarts ontving Peter Ebbens van de tandartsassistente een **rekening** van €225,00 voor de halfjaarlijkse controle en voor een wortelkanaalbehandeling. Met zijn bankpas heeft Peter dit bedrag via de pinautomaat betaald. Gelukkig is Peter goed verzekerd tegen tandartskosten en krijgt hij dat bedrag van de verzekering terug.

46. **de fooi – de fooien:** een fooi is extra geld dat je aan iemand geeft die iets voor je gedaan heeft (je betaalt dus meer dan je hoeft te betalen)

- Na de toneelvoorstelling “Panamarenko” in het Parktheater in Eindhoven namen we een taxi naar ons huis in Heeze. De kosten voor deze taxirit bedroeg €37,50. We betaalden €40,00 en we zeiden dat de taxichauffeur de rest van het geld mocht houden. Hij kreeg dus een **fooi** van €2,50.

47. **de hoofdprijs – de hoofdprijzen:** de hoofdprijs is de eerste prijs of de grootste prijs of de hoogste prijs in o.a. een wedstrijd of een loterij

Let op!

Prijs heeft hier niets te maken met hoe duur iets is, maar heeft wel te maken met wat je kunt winnen bij een wedstrijd of loterij.

- **De hoofdprijs** van 30 miljoen euro van de op 31 december gehouden oudejaarsloterij van de Staatsloterij is gevallen op een heel lot dat in Noord-Brabant is gekocht. Die 30 miljoen euro is door een 62-jarige Tilburger gewonnen. Hij wil verder anoniem blijven en wil veel van zijn gewonnen geld aan zijn kinderen en kleinkinderen geven.

48. **laden en lossen:**

a. **laden – laadde(n) – geladen:** als je spullen laadt dan doe je die spullen in een vervoermiddel (o.a. boot, auto, vrachtauto, goederentrein, aanhangwagen) – als je dus een vrachtwagen **laadt** dan doe je spullen in die vrachtwagen

b. **lossen – loste(n) – gelost:** als je spullen lost dan haal je die spullen uit een vervoermiddel (o.a. boot, auto, vrachtauto, goederentrein, aanhangwagen) – als je dus een vrachtwagen **lost** dan haal je spullen uit die vrachtwagen

Dus **laden en lossen:** als je een vrachtwagen **laadt en lost** met fruit dan doe je eerst dat fruit in de die vrachtwagen en later haal je dat fruit weer uit de vrachtwagen.

49. **het tijdstip – de tijdstippen:** een tijdstip is een bepaald moment in de tijd – een tijdstip kan bijv. 10 uur 's morgens zijn of 3 uur 's middags of half zeven 's avonds of kwart over vier 's nachts

- Elke werkdag staat John om 05.00 uur op om naar zijn werk te gaan waar hij om 06.00 uur moet beginnen als magazijnmedewerker. Op dat **tijdstip** ligt zijn vrouw Annie nog lekker te slapen.

50. **het veelvoud – de veelvouden:** een veelvoud van een getal is het getal dat één of meer keer een gegeven getal is

Voorbeelden:

- Het gegeven getal is 6. **De veelvouden** van 6 zijn 12, 18, 24, 30,

- Het gegeven getal is 12. **De veelvouden** van 12 zijn 24, 36, 48,

- Het gegeven getal is 9. **De veelvouden** van 9 zijn _____

- Het gegeven getal is 20. **De veelvouden** van 20 zijn _____

- Het gegeven getal is 50. **De veelvouden** van 50 zijn _____

Opdracht 2:

Hieronder staan plaatjes en tekst. Noteer onder die plaatjes en tekst het juiste woord of juiste woorden! Kies uit de woorden die bij opdracht 1 staan!

Plaatje 1:




Plaatje 2:



Plaatje 3:



Plaatje 5:



Plaatje 4:



Van Eindhoven naar Utrecht.

Plaatje 6:

Wie wilt er niet werken bij de voordeligste supermarkt van Eindhoven?

Nettorama is op zoek naar:

EERSTE MEDEWERKER afdeling vers m/v

... , 40 uur per week.

Als eerste medewerker op onze versafdelingen zorg je dat door de presentatie en verzorging van de vakken een optimaal verkoopresultaat wordt behaald. Tevens verzorg je de presentatie van de actieartikelen en bewaak je de versheid van de producten. Ook verstrek je desgewenst informatie aan de consumenten. Leeftijd vanaf 20 jaar.

WERKEN IN EEN SUPERMARKT IS AFWISSELEND EN LEUK, WERKEN BIJ DE VOORDELIGSTE SUPERMARKT VAN EINDHOVEN IS EEN UITDAGING!

INTERESSE? Ga naar het invulformulier op deze site, kies voor deze vacature, vul uw persoonlijke gegevens in en verstuur het bericht.



Vacature: schoonmaak m/v

Frequentie:	Dagelijks	Uren:	10 tot 16 p.w.
Tijd:	17:00 – 19:00	Locatie:	Breda divers
Aantal:	1 of 2 persoon	Kandidaat:	Rijbewijs B pre

Plaatje 7:

ELKE MAAND
€10.000
30 JAAR LANG!

**Winnen doe je in de
Staatsloterij!**

Plaatje 8



Plaatje 9:

14 januari 2016
12345678900000

Overzicht per locatie



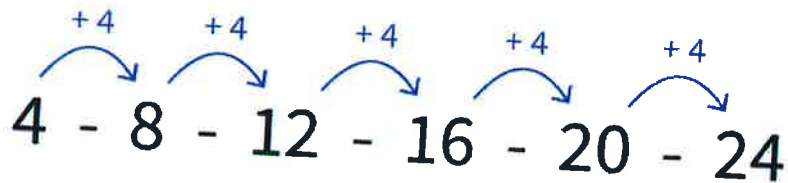
Zomaareenstraat 11, 1234 AB Testerdam

Abonnement

Ondememerspakket

	Periode	Aantal	Prijs	Bedrag
2 Gelijktijdige gesprekken	24 feb t/m 28 feb	-1	13,00	-2,32
Bel Onbeperkt Altijd	24 feb t/m 28 feb	-1	30,00	-5,36
Telefoonnummer Comfort	24 feb t/m 28 feb	-2	6,00	-2,14
ZI tot 20 Mbps	24 feb t/m 28 feb	-1	35,00	-6,25
2 Gelijktijdige gesprekken	01 mrt t/m 31 mrt	-1	13,00	-13,00
Bel Onbeperkt Altijd	01 mrt t/m 31 mrt	-1	30,00	-30,00
Telefoonnummer Comfort	01 mrt t/m 31 mrt	-2	6,00	-12,00
ZI tot 20 Mbps	01 mrt t/m 31 mrt	-1	35,00	-35,00
Korting				-108,07
Korting Ondememerspakket Standaard				20,00
Korting Ondememerspakket Standaard				3,57
Totaal Zomaareenstraat 11, 1234 AB Testerdam excl. btw				23,57
				-82,50

Plaatje 10:



Opdracht 3:

Beantwoord de onderstaande vragen en opdrachten op de juiste wijze!

1. Je neemt vanaf het Centraal Station in Eindhoven de taxi naar huis. Je woont in Veldhoven. Dat is 8 km. Wat kost deze taxirit?

2. a. Noem drie "dingen" die je wel kunt bestellen! _____
b. Noem drie "dingen" die je niet kunt bestellen! _____
3. Heeft een pizza een bodem? Zo ja, waar is die bodem dan van gemaakt en hoe ziet die bodem er dan uit? _____
4. a. Kun je ook meer dan fulltime werken? Leg je antwoord uit! _____

- b. Kun je als parttime postbezorger (= postbode) ook fulltime als postbezorger gaan werken? Leg je antwoord uit! _____
5. a. Noem twee soorten rekeningen waarvan het verstandig is om die rekeningen langere tijd te bewaren! Leg je antwoord uit! _____

- b. Noem twee soorten rekeningen die je eigenlijk niet hoeft te bewaren! Leg je antwoord uit! _____
6. Wat is een "fooiempot"? _____
7. Wat is de hoofdprijs van het wereldkampioenschap darts van dit jaar? _____
8. Noem twee hulpmiddelen (= apparaat, toestel, machine, e.d.) waardoor je makkelijker goederen kunt laden en lossen! _____
9. Wat is het tijdstip van vertrek als jij 's morgens naar school moet?

10. Als politieman Sengers vorige maand 14 bekeuringen heeft uitgedeeld aan verkeersovertreders en deze maand heeft hij meer bekeuringen aan verkeersovertreders uitgedeeld, wel een veelvoud hiervan. Hoeveel bekeuringen heeft politieman Sengers deze maand dan uitgedeeld? _____

Opdracht 4:

Zijn de onderstaande zinnen waar of niet waar? Noteer op de juiste wijze waar of niet waar achter elke zin!

1. Je wilt een tweedehands Volkswagen kopen, maar voordat je beslist om die auto te kopen, wil je er eerst een proefrit mee maken. Je rijdt dan enkele kilometers met deze Volkswagen om die auto te testen zodat je weet dat die auto goed rijdt en dat jij die auto voor die verkoopprijs wilt kopen.
2. Als je een taxi bestelt dan geef je aan de medewerker van een taxi-centrale de opdracht om een taxi naar je toe te laten komen.
3. De bodem van een doodskist moet stevig (= sterk, gaat niet snel kapot) zijn omdat er op die bodem ook een zwaar overleden (= doodgegene) persoon moet kunnen liggen zonder dat die persoon door de bodem zakt.
4. Als je een fulltime opleiding als timmerman volgt dan ben je elke dag vele uren met die opleiding bezig. Op school, thuis en tijdens je stage. Als je een parttime opleiding als timmerman volgt dan ben je maar 10 tot 12 uur per week met die opleiding bezig. Op school, thuis en tijdens je stage.
5. Op school moesten we tijdens de rekenles de rekening maken van de volgende som: 234×36 . Veel klasgenoten vonden dat toch wel moeilijk.
6. Als je in een restaurant hebt gegeten dan is het verplicht om de ober (of kelner) bij het betalen van het eten en drinken een fooi te geven.
7. Als je in een supermarkt de hoofdprijs voor het toiletpapier moet betalen dan betaal je de hoogste prijs voor dit toiletpapier.
8. Als je een aanhangwagen laadt dan maak je die aanhangwagen vol met spullen en als je die aanhangwagen weer lost dan haal je al die spullen weer van die aanhangwagen.
9. Als je op tijd vertrekt, haal je elk tijdstip echt wel.
10. Als je in je dictee een veelvoud aan fouten maakt dan maak je erg veel fouten en haal je een laag cijfer voor je dictee.

Opdracht 5:

Hieronder staan zinnen. In die zinnen moeten de juiste woorden worden ingevuld. Kies uit de woorden van opdracht 1!

1. De verfkleur mosgroen van het merk Histor is in deze verzaak niet meer te koop, maar de eigenaar van deze verzaak wil die verfkleur wel voor mij _____ bij de verffabriek in Heerlen. Daar heb ik positief op gereageerd en ik kan volgende week dan ook de verfkleur mosgroen op komen halen in deze verzaak.
2. Als je meer keren per dag medicijnen moet innemen, is het _____ van het innemen van die medicijnen erg belangrijk volgens dokter Heerkens. Hij zegt verder: "Het is belangrijk om het medicijn op hetzelfde moment van de dag in te nemen. Als je een medicijn twee keer per dag moet innemen dan doe je dat om de twaalf uur, bijvoorbeeld om zeven uur 's morgens en om zeven uur 's avonds."
3. Nadat de auto van mijn vader bij garagebedrijf Strijbos een grote onderhoudsbeurt had gekregen, kreeg mijn vader van meneer Strijbos de _____: te betalen €345,00.
4. Onlangs kreeg mevrouw Janneke Withag uit Volkel de _____ overhandigd door de hoofdredacteur van het Brabants Dagblad. Janneke Withag had namelijk als enige de meeste vragen van de Brabantkerstquiz goed beantwoord. Van de 150 vragen had ze bij 146 vragen op de juiste wijze het antwoord genoteerd. Van de hoofdredacteur van het Brabants Dagblad kreeg ze een 14-daagse vliegreis voor twee personen naar Griekenland aangeboden. Ze verblijft daar in een 4 sterrenhotel met vol pension.
5. De directeur van ASML in Veldhoven verdient €3.000.000,00 per jaar. Als deze directeur ook als directeur in zo'n zelfde bedrijf in de Verenigde Staten zou werken dan zou hij een _____ van zijn huidige salaris verdienen. Dan zou hij dus zes of negen miljoen euro per jaar verdienen.
6. Elke twee dagen _____ vrachtwagenchauffeur Harrie Stips zijn vrachtwagen vol met bloemen en planten bij de bloemenveiling in Aalsmeer. Dan rijdt hij met die volle vrachtwagen naar Frankrijk en 's avonds _____ hij al die bloemen en planten bij een groothandel in bloemen en planten in Lyon. De volgende dag rijdt Harrie weer terug naar Nederland en onderweg naar Neder-

- land neemt hij vanuit Frankrijk met zijn vrachtwagen een lading Franse kaas mee.
7. Elke zondagmorgen fietst Johan met drie vrienden zo'n 20 km door de bossen van Lierop. Dat doen ze op de mountainbike. Tijdens deze _____ rijden ze over smalle paadjes en dikke boomwortels, door rul (= los) zand en plassen. In weer en wind. In de kou, in de hitte, in de regen en als de zon schijnt. Ze beleven er veel plezier aan.
 8. Op het internet bij "Vraag en antwoord" zag ik de volgende vraag van mevrouw Jenst staan: "Ik heb een probleem met mijn koelkast. Al enkele weken blijft er onder de groentelades op de _____ van de koelkast water staan en daardoor gaat het alarm van de koelkast regelmatig af. Hoe kan dit probleem opgelost worden?" Daar heb ik als volgt op gereageerd: "Veel koelkasten hebben een automatische ontdooier. Hierdoor wordt het dooiwater via een gootje achterin de koelkast afgevoerd. Als het gaatje van dit gootje verstopt is, blijft er water in de koelkast staan. Met een breinaald kun je het gaatje zo doorprikken en het dooiwater kan weer op de normale manier afgevoerd worden. En het probleem is opgelost."
 9. Na een week hard werken, hadden Pieter en Hanna Geelbos op vrijdagavond geen zin meer om zelf een maaltijd te koken. Daarom hebben ze bij pizzeria "Pizza Pronto" twee pizza's besteld. Die pizza's werden een half uur later bij Pieter en Hanna thuisbezorgd. De kosten voor deze pizza's bedroegen €16,80. Pieter betaalde met een briefje van 20 euro en hoefde geen geld terug van de pizzabezorger. Toch een leuke _____ van €3,20 voor deze pizzabezorger.
 10. Jessica Veerman heeft de afgelopen zeven jaar _____ als hoofdverpleegster in het Emmaziekenhuis in Leeuwarden gewerkt. Ze werkte daar in de nachtdienst van 's avonds tien uur tot 's morgens half zeven. Nu ze twee maanden geleden van een dochtertje is bevallen, is ze minder gaan werken. Ze werkt nu _____. Alleen op maandag, dinsdag en vrijdag werkt ze nog tijdens de nachtdienst.

Opdracht 6:

Vul de onderstaande zinnen op de juiste wijze aan en in!

1. Bij een tijdrit rijden wielrenners _____
2. Je kunt tegenwoordig op verschillende manieren producten bestellen. Dat kun je doen door _____ en door _____ en door _____.
3. Op de bodem van een aquarium met goudvissen leg je _____ en _____ en _____ en _____
4. a. Twee voordelen en twee nadelen van fulltime werken zijn _____
b. Twee voordelen en twee nadelen van parttime werken zijn _____
5. Bij het overlijden (= doodgaan) van een familielid ontvangen de nabestaanden de rekening voor de begrafenis of de crematie van het overleden familielid van de uitvaartonderneming. Op deze rekening staat dan gemiddeld een bedrag van € _____
6. Je laat de schoorsteen van je huis door een schoorsteenveger vegen. Je geeft die schoorsteenveger dan een fooi als _____
7. Stel je het volgende voor: je wint zowel in de Staatsloterij als in de Postcode Loterij 1 miljoen euro (dus samen 2 miljoen euro). Na een week is dat gewonnen geld op je bankrekening overgemaakt. Als je dan op je bankrekening kijkt, zie je toch twee verschillende bedragen die je hebt gewonnen. Die twee verschillende bedragen komen doordat _____
8. Waar worden goederen geladen en gelost? Met een....
 - a. een vliegtuig _____
 - b. een vrachtauto _____
 - c. een schip _____
 - d. een goederentrein _____
9. Als het tijdstip van de voetbalwedstrijd FC Volendam tegen FC Eindhoven van 14.30 uur vervroegd is dan spelen deze teams niet om _____, maar om _____
10. Als er in onze straat zeven bomen staan en in andere straten in onze woonwijk staat een veelvoud aan bomen dan staan er in die andere straten _____

HERHALING DEEL A T M E

Opdracht:

Hieronder staan plaatjes en tekst. Noteer bij die plaatjes en tekst het juiste woord of de juiste woorden van de woorden die bij deel a t/m e staan!

Plaatje 1:

**39%
GOEDKOPER!**

**Gillette
MACH3**

4-pack

7.98
Elders 12.00 p.st.

Plaatje 2:



Nog nooit zoveel “bommetjes”
tegelijk.

Plaatje 3:



Plaatje 4:

let op! nieuw
 bank let op! nieuw
 bankrekeningnr.

Plaatje 5:



Plaatje 6:

**LEUK DAT
 JE ER BENT**

Merci,
 dat jij er bent!

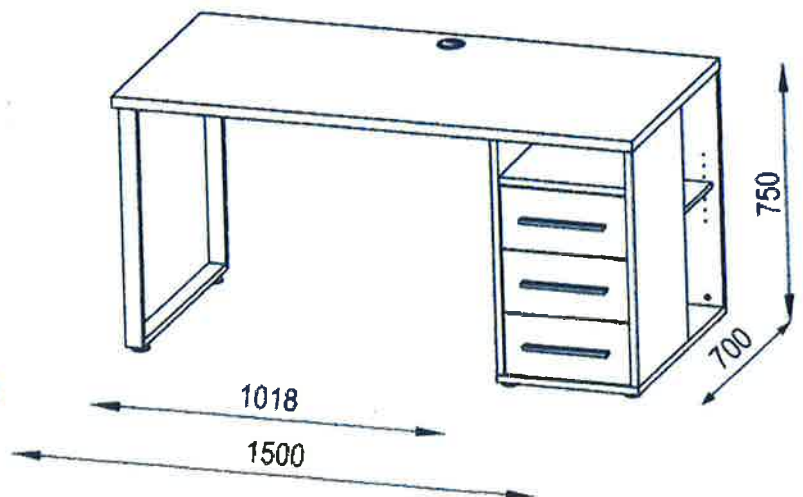
Plaatje 7:

$$\frac{3}{5} - \frac{2}{5} = \frac{1}{5}$$

$$70734 - 6125 =$$

6	10	2	14	
7	0	7	3	4
<hr/>				
6	1	2	5	-
<hr/>				
	6	0	9	

Plaatje 8




Plaatje 9:



Plaatje 10:

$$12 - 24 - 36 - 48 - 80 - 72$$

$\overset{+12}{\curvearrowright}$ $\overset{+12}{\curvearrowright}$ $\overset{+12}{\curvearrowright}$ $\overset{+12}{\curvearrowright}$ $\overset{+12}{\curvearrowright}$




Plaatje 11:

	Jumbo	Albert Heijn	EMTÉ
Macaroni (Honig)	€0,89	€1,00	€1,19
Frikadel (Mora)	€0,95	€1,00	€1,09
Paprika chips (Pringles)	€1,69	€1,80	€1,85
Decafé koffie (DE)	€2,42	€2,54	€2,75
Mix voor pannenkoeken (Koopmans)	€0,94	€0,93	€0,99
Confituur (Bonne Maman)	€1,96	€2,08	€2,15
TOTAAL	€8,85	€9,35	€10,02

HOE VET IS DE GEHAKTBAL?

*ANDERE VLEESDOORTEN?





Plaatje 12:



Wat is 't zelfde?

Wat is 't zelfde?

Plaatje 13:



Van huis naar school...

Plaatje 14:

Werkvoorbereider / Projectleider (40 uur per week)

Hagen installatietechniek - Velp

Functieomschrijving Over ons Hagen installatietechniek is een gerenommeerde organisatie die al meer dan honderd jaar actief is in de markt van...

Eenvoudig solliciteren

Gesponsord - vacature opslaan

Persoonlijke Reisassistent VakantieXperts Eindhoven Woensel

D-reizen - 24 reviews - Eindhoven

Voor onze winkel in Eindhoven zijn wij op zoek naar een Persoonlijke Reisadviseur voor 20 uur per week. Wij zoeken een enthousiaste kracht die minimaal beschikt...

16 uur geleden - vacature opslaan - meer...

Plaatje 15:



Plaatje 16:



Plaatje 17:

HANDBALVERENIGING "DE WORP" IN HEERLEN

MAANDELIJKS TE BETALEN DOOR LEDEN MIDDELS
AUTOMATISCHE INCASSO PER 1 JULI 2018

SENIOREN	€14,00
A-JEUGD	€12,50
B-JEUGD	€12,00
C-JEUGD	€11,00
D-JEUGD	€10,00
E-JEUGD	€9,00
F-JEUGD	€8,00
NIET SPELENDE LEDEN	€10,00

Plaatje 18:



Jassen nu
Halve Prijs



Plaatje 19:



Plaatje 20:





Het Anker

P & G verzekeringen
Schoolstraat 4
3624 KB Alphen aan de Rijn

Multi Functioneel Centrum 'Het Anker'
Chopinlaan 32
3236 AH Hazerswoude Rijndijk
Tel: 071 573 23 45
www.hetanker.nl

Plaatje 21:

Zaalkuur 1 dagdeel	€	225,00
Koffie/Thee		140,00
Lunch		660,00
Div. consumpties		180,00
Totaal	€	1205,00

Bedrag is inclusief 6% btw.
btw over deze bon = € 68,21

Wij verzoeken u dit bedrag binnen 30 dagen over te schrijven op
bankrekeningnummer 33.44.55.660 van de ABN AMRO-bank met vermelding van
factuurnummer VF 17/2009 - 34



#	Omschrijving	Totaal
2	Jupiter	4,20
2	Rose	6,50
1	Zeebaars	16,50
1	Salade Eendenborst	9,00
1	Appel-garnaal rolletjes	9,00
1	Rundertournedos	22,50
1	Puestero rood	4,50
1	Koffie	2,00
1	Espresso	2,00
1	Ardberg	7,00
Totaal		83,20

Plaatje 22:



Plaatje 23:



Extra te betalen bij	"Leeg te ontvangen..."
Kratje met 24 flesjes	€ 3,90 
Leeg kratje zonder de 24 flesjes	€ 1,50
Kratje met 12 flesjes	€ 2,90 
Leeg kratje zonder de 12 flesjes	€ 1,50
Losse flesjes van 0,5 Liter of kleiner	€ 0,10
Losse flesjes, groter dan 0,5 liter	€ 0,25

Plaatje 24:

GROTE BINGO ('S AVONDS)

De prijs van de avond:

REISCHEQUE t.w.v. € 450

Verder veel andere mooie prijzen! Bij binnenkomst kopje koffie gratis! Aanvang: 20.00 uur. Zaal open: 19.30 uur.



U bent welkom in het Dorpshuis!

BUURTVERENIGING HIERDEN



Plaatje 25:

lengte 8 meter



breedte 5 meter

Plaatje 26:



Plaatje 27:



Plaatje 28:

Hoeveel geld ontvangen de raadsleden in de gemeenteraad?

Klasse	Inwonertal	Per maand te ontvangen
1	Tot en met 8.000	€ 250,82
2	8.001-14.000	€ 396,33
3	14.001-24.000	€ 617,77
4	24.001-40.000	€ 958,91
5	40.001-60.000	€ 1.248,42
6	60.001-100.000	€ 1.460,84
7	100.001-150.000	€ 1.658,52
8	150.001-375.000	€ 1.932,14
9	375.001-	€ 2.352,29

Plaatje 29:

**WAT ONTVANGT DE HEER HEILIGERS (GEBOREN OP 8
MAART 1950) ELKE MAAND?**

AOW	€845,00
PENSIOEN	€325,00
RENTE SPAARGELD	€27,50
HURTOESLAG	€80,00
ZORGTOESLAG	€95,00
TOTAAL	€1372,50

Plaatje 30:

TOVERLAND



Iedereen mag hiervan genieten, behalve hartpatiënten.

Strepsils®

Original

BIJ BEGINNENDE KEELPIJN


24 zuigtabletten

Gebruik voor iedereen!
(niet voor kinderen jonger dan 4 jaar)

Plaatje 31:



Plaatje 32:



Plaatje 33:



Plaatje 34:



Plaatje 35:

Wat is anders?



Kruidnoten vs Pepernoten



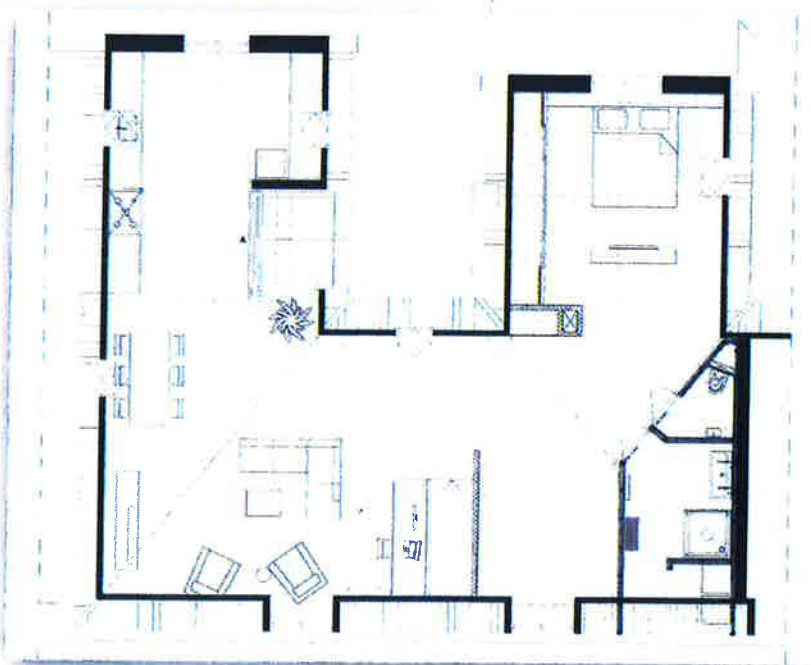
Kruidnoten

Pepernoten

Plaatje 36:









Plaatje 37:



Tekorten z.s.m. aanvullen a.u.b.

Plaatje 38:

HANDBAL MANNEN KWALIFICATIE WK

Pos.	Land	GW	W	G	V	DV	DT	DS	Ptn
1	 Frankrijk	10	6	2	1	18	6	+12	23
2	 Zweden	10	6	1	3	26	9	+17	19
3	 Nederland	10	6	1	3	21	12	+9	19
4	 Bulgarije	10	4	1	5	14	19	-5	13
5	 Luxemburg	10	1	3	6	6	20	-18	6
6	 Wit-Rusland	10	1	2	7	6	21	-14	5

KNVB beker - Gisteren
 **2**
 Feyenoord

Sam Larsson 3'
 Tonny Vilhena 35'

Kwartfinale



Eindstand
0 
 PSV

Plaatje 39:



Plaatje 40:



Plaatje 41:



Plaatje 42:

Persoonsvorm in verleden tijd: 'T eX KoFSCHiP

- Bepaal de laatste letter van de stam (ik-vorm)
- Staat de laatste letter van de stam in 't ex kofschip? Voeg dan –te(n) toe.
- Staat de laatste letter van de stam er niet in? Voeg dan –de(n) toe.

Voorbeelden

Vertellen – ik vertel – ik vertelde

Missen – ik mis – ik miste

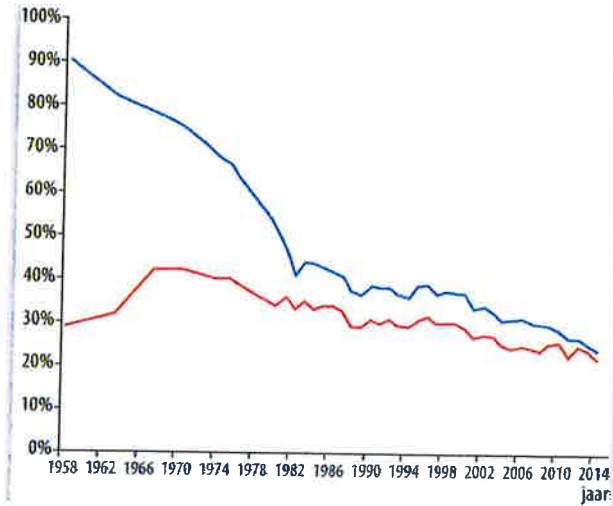
Stunten – ik stunt – ik stuntte

Raden – ik raad – ik raadde

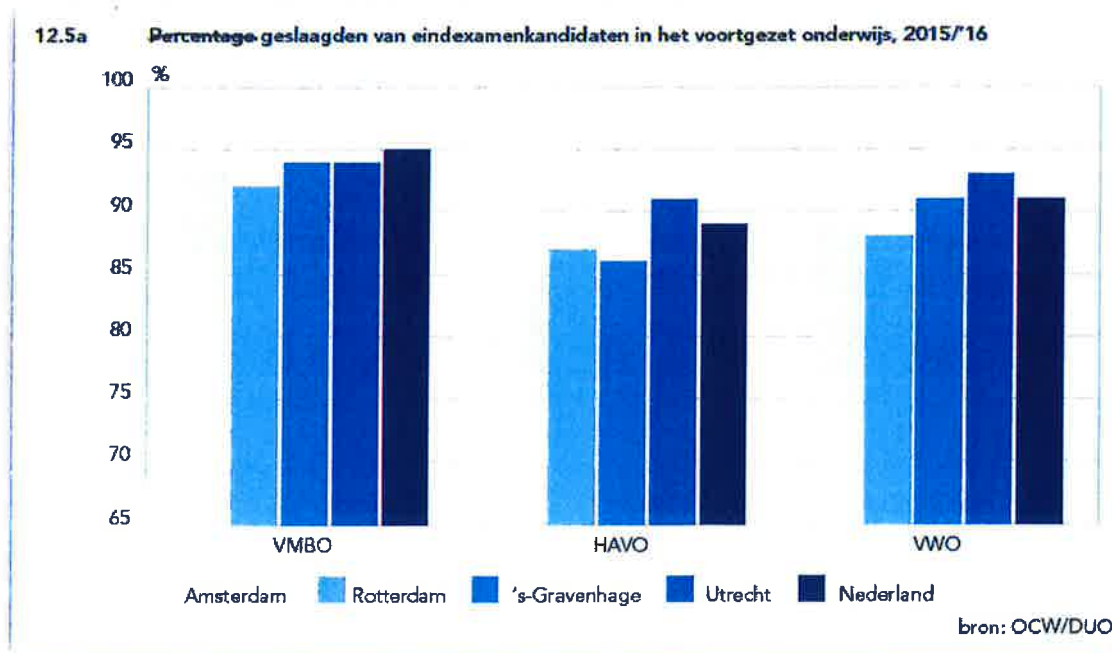


Plaatje 43:

ROKERS IN NEDERLAND



Blauwe lijn = volwassen mannen
Rode lijn = volwassen vrouwen



Plaatje 44:

Floccinauccinihilipilification

Spreek maar uit!

$$T = \frac{\hbar c^3}{8 \pi G k_B M}$$

Reken maar uit!

Plaatje 45:



Plaatje 46:



De fietsers en sponsoren van

Proeven en Fietsen - MarkeLokaal

21 mei 2017

hebben samen € 2573,25 bijeengebracht voor de

Joanne Foundation

Mit dank aan: AAA Pectame, ABZ Diervoeding, Bistro De Taverne, Janske Adolfsen Advies, Robbert Makelardij, Two Living, AardLife, Communicatiebureau.nl, H&A Assurantiën, Kruisenhof van Hotten & Twente, Markies Landschap, Univé Coost, Van Boven Afdelings, Welkoop, Brunenberg Horecaopleiding, De Linnentafel, Happy 100 Schoonheidsinstituut, Plus Markelo, Schultens Markeloers Taxiteam en Florissmeester, Stoeplandage Team Coof, Tempelman Beton- en zaagbedrijf, Echte Bakker Muiders, Twente Scherrel, Ervi Voordees, Foveleniers Deep'n, Schaapskooi De Borkeld, Wingerd Floosenburg, Natuurcamping De Kolk, alle fietsers, hulpverleners en iedereen die zich ook maar op één of andere manier ingezet heeft.



Lionsclub Markelo-Lochem Mixed

Plaatje 47:



... vanaf de 2^e rij...



Waar staat de vrouw met de witte broek ten opzichte van de andere personen?

Plaatje 48:



Plaatje 49:

Je tijd en aandacht eraan geven....



Plaatje 50:

